


Nombre: _____

Grado: _____

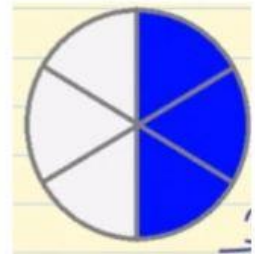
Relacionar fracciones

Dibuja una línea entre cada fracción y su representación gráfica

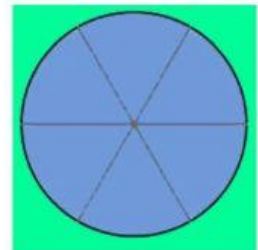
$3/6$ ●



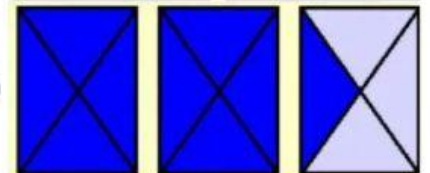
$9/4$ ●



$2/4$ ●



$11/8$ ●



$6/6$ ●

