

# Soal Latihan

Setelah memahami materi. Silahkan isi pertanyaan berikut :

## SOAL PILIHAN GANDA

Pilihlah jawaban yang paling benar dengan cara menekan jawaban yang paling benar !

Berikut ini yang termasuk sifat kubus adalah....

A. Memiliki 5 titik sudut

C. Memiliki 6 sisi yang bentuknya sama

B. Sisinya berbentuk jajar genjang

D. Memiliki bentuk alas segitiga

## SOAL ISIAN SINGKAT

Isilah pertanyaan berikut dengan menulis jawaban pada kolom yang disediakan

Isilah Unsur - Unsur Kubus dibawah ini dengan benar

1. Banyak Rusuk Kubus adalah

2. Banyak Sisi Kubus adalah


3. Banyak Titik Sudut Kubus adalah




# Soal Latihan

Pasangkan jaring-jaring dibawah ini dengan benar. Silahkan tarik garis dari kanan ke kiri pada lingkaran biru sehingga menjadi jawaban yang benar.

## SOAL JOIN ARROW




BALOK



KUBUS



LIMAS SEGITIGA





# Soal Latihan

Geser dan pindahkan rumus pada tempat yang sesuai.  
Dengan cara mendrag kotak orange ke tempat yang benar.

## SOAL DRAG N DROP

$$\frac{1}{3} \times \text{L.alas} \times \text{Tinggi}$$

Volume Prisma

$$2 ( pl + pt + lt )$$

L.Permukaan  
Kubus

$$6 \times s \times s$$

L.Permukaan  
Prisma

$$2 \times \text{L.alas} + (\text{Keliling alas} \times \text{tinggi})$$

Volume Prisma

$$\text{L.alas} \times \text{tinggi}$$

L.Permukaan  
Balok



# Soal Latihan

Carilah kata berikut : Limas, Rusuk, Titik sudut, Sisi, Prisma, Kubus, Balok

## SOAL WORD SEARCH

