



NOMBRE \_\_\_\_\_

PROFESORA: ALINE LIZBETH ESPEJEL BUENDIA

PRIMER GRADO GRUPO "A"

## Matemáticas

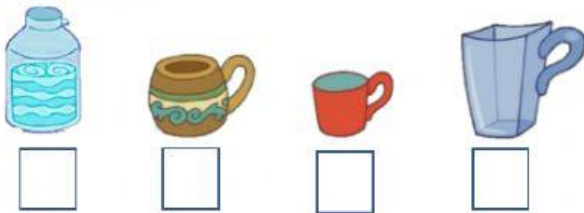
Selecciona la respuesta correcta.

1. ¿Qué tienen en común las siguientes figuras?




- a) Son del mismo color.
- b) Las dos tienen tres lados.
- c) Las dos tienen cuatro lados.

2. Escribe del 1 al 4 para ordenar los recipientes del que le cabe menos al que le cabe más.



3. Selecciona los que tienen 4 lados y 4 vértices



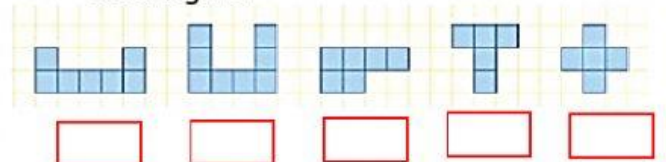
4. Selecciona el que le cabe más.



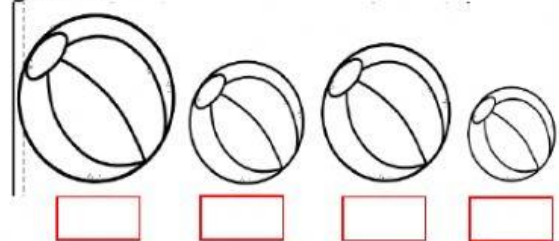
5. Completa la serie.

10    30    \_\_\_\_\_    60    80    \_\_\_\_\_


6. Cuenta y escribe cuantos cuadros hay en cada figura.



7. Observa las pelotas y ordena del 1 al 4, comenzando del más pequeño al más grande.

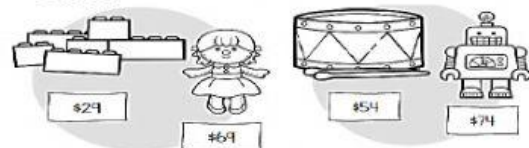


8. ¿Qué tienen en común estas figuras?



- A) 3 aristas
- B) 2 lados largos y 2 lados cortos.
- C) Tienen 5 vértices.

9. Selecciona el producto que es más caro.






# Colegio Josué Mirlo

Completa la tabla.

10. Emilia y Matías lanzaron los dados para avanzar en las casillas del juego.

ESTABAN EN LA CASILLA	LES SALIÓ EN LOS DADOS	¿A QUÉ CASILLA LLEGARON?
18		<input type="text"/>
26		<input type="text"/>

11. Ordena las escobas iniciando con la que tenga menor longitud, utiliza los números del 1 al 5.



12. Escribe los días de la semana que falta.

**Días de la semana**

lunes

miércoles

jueves

domingo

13. Escribe cuantos hay en total.

14. Completa el patrón.

<b>1</b>	<b>2</b>	<b>3</b>	<b>1</b>				



15. Escribe la cantidad que representa cada caso.

<input type="text"/>	<input type="text"/>	<input type="text"/>	<input type="text"/>



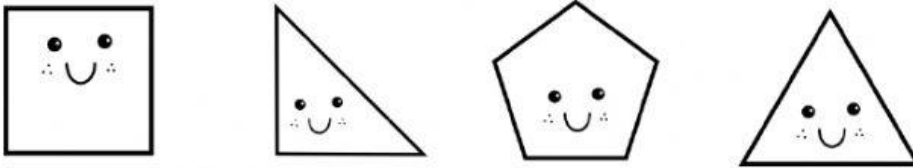
# Colegio Josué Mirlo

16. Cuenta las fichas, escribe cuántos faltan para completar la decena.

●	●	●	●
●	●	●	●
●	●	●	●
●	●		
●	●		

Faltan

17. Selecciona las figuras que tengan 3 aristas.



18. Completa las sumas.

$$15 + \begin{array}{|c|} \hline \bullet \\ \hline \bullet \bullet \\ \hline \end{array} + \begin{array}{|c|} \hline \bullet \\ \hline \end{array} = \square$$


---


$$27 + \begin{array}{|c|} \hline \bullet \\ \hline \end{array} + \begin{array}{|c|} \hline \bullet \\ \hline \end{array} = \square$$

19. Resuelve las sumas.

$15 + \underline{\quad} = 25$

$\underline{\quad} + 42 = 50$

20. Escribe cuántas decenas y unidades



D	U



D	U

21. Completa para que como resultado 10.

$5 + \underline{\quad} = 10$

$6 + \underline{\quad} = 10$

$3 + \underline{\quad} = 10$

$8 + \underline{\quad} = 10$