


RISOLVI I PROBLEMI

LEGGI, OSSERVA I DISEGNI, FAI L'OPERAZIONE E COMPLETA LA RISPOSTA.

1

SUL VASSOIO CI SONO 9 CIAMBELLE
E 7 FRITTELLE.
QUANTI DOLCI **IN TUTTO**?

OPERAZIONE → =




RISPOSTA → **IN TUTTO** CI SONO DOLCI.

2

NELLA CIOTOLA C'ERANO 15
FRAGOLE. PER FARE LA MACEDONIA
LA MAMMA NE HA USATE 9.
QUANTE FRAGOLE **SONO RIMASTE**?

OPERAZIONE → =

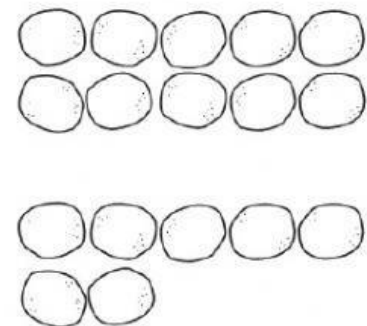


RISPOSTA → NELLA CIOTOLA **SONO RIMASTE**
 FRAGOLE.

3

LA NONNA HA PREPARATO 10
POLPETTE; LEA NE HA PREPARATE
SOLO 7.
QUANTE POLPETTE DI **DIFFERENZA**?

OPERAZIONE → =



RISPOSTA → LE POLPETTE DI **DIFFERENZA** SONO .