



PEMERINTAH KABUPATEN SINJAI
SD NEGERI 56 TALLE
PENILAIAN TENGAH SEMESTER (PTS)
TAHUN PELAJARAN 2022/2023

Alamat : Jalan Poros Sinjai Malino Kecamatan Sinjai Tengah Kabupaten Sinjai

I

Nama	:		Hari, Tanggal	:	
Kelas/Semester	:	VI (Enam) / 2(Dua)	Tema	:	6 Menuju Masyarakat Sejahtera

Kerjakan soal-soal berikut dengan tepat!

1. Perhatikan gambar di bawah ini!



Perilaku positif yang mencerminkan kewajiban di Sekolah dalam upaya mengisi kemerdekaan sesuai dengan gambar tersebut adalah....

- Peduli lingkungan dengan menanam pohon
- Bermain dengan siapapun tanpa membedakan agama
- Mengembangkan rasa toleransi dalam keragaman sosial
- Saling menghormati dan menghargai antar sesama.

2. Perhatikan gambar berikut!



Hak yang diperoleh dalam kegiatan pada gambar tersebut adalah

- Hak untuk memeluk agama.
- Hak untuk mendapatkan pendidikan.
- Hak untuk mengeluarkan pendapat
- Hak untuk memanfaatkan sumber daya alam.

3. Perhatikan teks bacaan berikut!

Tari klana topeng merupakan bentuk karya tari tunggal, Tari ini berasal dari Daerah Istimewa Yogyakarta. Tari klana topeng pada umumnya ditarikan oleh penari putra. Tema yang menjadi sumber tarian ini mengambil dari cerita Panji. Cerita itu tentang Raja Klana Sewandana yang sedang jatuh cinta. Berikut yang bukan merupakan informasi dari paragraf di atas adalah .

- Tari klana topeng merupakan bentuk karya tari tunggal.
- Tari klana topeng berasal dari Daerah Istimewa Yogyakarta.

- c. Tari klana topeng pada umumnya ditarikan oleh penari putri.
- d. Tema yang menjadi sumber tarian klana topeng mengambil dari cerita Panji.

4. Bacalah teks eksplanasi berikut!

Perlawanan Rakyat Maluku terhadap Portugis

Bangsa Portugis pertama kali mendarat di Maluku pada tahun 1511. Kedatangan Portugis berikutnya pada tahun 1513. Akan tetapi, Ternate merasa dirugikan oleh Portugis karena keserakahannya dalam memperoleh keuntungan melalui usaha monopoli perdagangan rempah-rempah. Pada tahun 1533, Sultan Ternate menyerukan kepada seluruh rakyat Maluku untuk mengusir Portugis di Maluku. Pada tahun 1570, rakyat Ternate yang dipimpin oleh Sultan Hairun dapat kembali melakukan perlawanan terhadap bangsa Portugis, namun dapat diperdaya oleh Portugis hingga akhirnya tewas terbunuh di dalam Benteng Duurstede. Selanjutnya dipimpin oleh Sultan Baabullah pada tahun 1574. Portugis diusir yang kemudian bermukim di Pulau Timor.

Sumber: <https://www.dosenpendidikan.co.id/perlawanan-rakyat-maluku/>

Berilah tanda centang (✓) pada kolom benar/salah, sesuai pernyataan berikut berdasarkan teks “Perlawanan Rakyat Maluku terhadap Portugis”!

No	Pernyataan	Benar	Salah
1	Bangsa Portugis pertama kali mendarat di Maluku pada tahun 1551		
2	Portugis diusir yang kemudian bermukim di Pulau Timor.		
3	Portugis datang kedua kalinya pada tahun 1531		

NO	PERNYATAAN	BENAR	SALAH
1	Bangsa Portugis pertama kali mendarat di Maluku pada tahun 1551		
2	Portugis diusir yang kemudian bermukim di Pulau Timor		
3	Portugis datang ke dua kalinya pada tahun 1513		

5. Bacalah teks eksplanasi berikut!

Edelweis, Si Bunga Abadi

Bunga edelweiss dikenal juga dengan sebutan sebagai bunga abadi. Bunga ini hanya dapat dijumpai di daerah pegunungan, seperti gunung Gede Pangarango, Gunung Rinjani, dan Gunung Merbabu. Bunga edelweiss memiliki ciri-ciri berkelopak putih dan hanya mekar periode April sampai dengan Agustus. Bunga edelweiss ini disebut bunga abadi karena tak muda layu. Bunga ini dapat mekar hingga 10 tahun lamanya.

Sumber: <http://bobo.grid.id/Sains/Flora-dan-Fauna>

Berilah tanda centang (✓) pada kolom **benar/salah** sesuai pernyataan berikut berdasarkan teks di atas!

No	Pernyataan	Benar	Salah
1	Bunga edelweis mekar hingga 10 tahun lamanya.		
2	Bunga edelweis dapat dijumpai di Gunung Rinjani.		

3	Salah satu ciri bunga edelweiss yaitu mekar periode Desember.		
---	---	--	--

6. Sampah konsumsi ada yang berupa sampah organik. Sampah organik adalah sampah yang berasal dari sisa makhluk hidup yang terdapat di alam seperti tumbuhan dan hewan serta berbagai hasil olahannya sehingga dapat terurai secara alami.

Diantara pernyataan berikut yang merupakan sampah organik sebagai berikut:

Pernyataan	
<input type="checkbox"/>	Botol kaca
<input type="checkbox"/>	Kayu kering
<input type="checkbox"/>	Kulit pisang
<input type="checkbox"/>	Kain perca
<input type="checkbox"/>	Kantong plastik

7. Perhatikan gambar berikut untuk menjawab soal nomor 5 dan 6!



Tuliskan 3 ciri-ciri pubertas pada laki-laki!

Jawab: _____

8. Bacalah cerita berikut dengan cermat!

Jonas gemar bermain bola basket. Jonas rutin bermain bola basket sebanyak dua kali dalam sepekan. Saat bermain, tubuh Jonas mengeluarkan cukup banyak keringat.

Menurutmu, pakaian olahraga seperti apa yang cocok digunakan oleh Jonas ketika bermain bola basket? Jelaskan alasanmu!

Jawab: _____

9. Sebagai warga Negara Indonesia, tentunya kita mengetahui bahwa kemerdekaan yang kita rasakan sekarang adalah bentuk perjuangan bangsa Indonesia. Tugas kita adalah mempertahankan kemerdekaan dengan melakukan berbagai kegiatan mengisi kemerdekaan. Bahkan setiap warga Negara Indonesia berhak dan wajib ikut serta dalam usaha mempertahankan kemerdekaan NKRI.

Tuliskan 3 contoh upaya dalam mempertahankan kemerdekaan negara Republik Indonesia

Jawab :

10. Perhatikan interval nada berikut!

INTERVAL NADA	JARAK NADA	NAMA INTERVAL
c - c	0	Prime
c - d	1	Skond
c - e	2	Terts
c - f	2 ½	Kward
c - g	3 ½	Kwin
c - a	4 ½	Sekst
c - b	5 ½	Septime
c - c'	6	Oktaf

Nama interval nada dari nada C ke C' adalah

11. Perhatikan gambar berikut!



Tari yang dibawakan oleh dua orang penari atau secara berpasangan serta dapat dilakukan oleh pasangan penari putri dan putri, pasangan penari putra dan putra, atau pasangan penari putra dan putri disebut tari ...





12. Interval melodis terdiri atas interval dari nada rendah kenada tinggi dan interval dari nada tinggi kenada rendah. Di mana melodi yang baik adalah melodi yang mempunyai interval terjangkau oleh alat musik atau suara manusia. Interval yang hanya terdengar satu nada sehingga terdengar nyaman. Contohnya do saja disebut interval

13. Perhatikan gambar berikut!

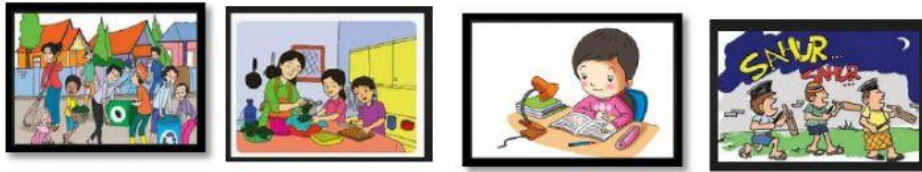


Kegiatan di atas merupakan beberapa contoh "**Kegiatan di Sekolah**" dalam upaya mempertahankan kemerdekaan.





Jodohkan beberapa pernyataan berikut berdasarkan gambar "**Kegiatan di Sekolah**"

1	Mengikuti pembelajaran di kelas dengan tertib	<input checked="" type="radio"/>	<input checked="" type="radio"/>	a.	
2	Gotong royong dalam menjaga kebersihan kelas	<input checked="" type="radio"/>	<input checked="" type="radio"/>	b.	
3	Disiplin dalam mengikuti upacara bendera	<input checked="" type="radio"/>	<input checked="" type="radio"/>	c.	
4	Melakukan penghijauan di lingkungan sekolah	<input checked="" type="radio"/>	<input checked="" type="radio"/>	d.	

14. Perhatikan gambar berikut!



Jodohkan beberapa pernyataan berikut berdasarkan gambar “Kegiatan di atas”

Membantu ibu di dapur	•	•	Upaya mempertahankan kemerdekaan dengan rajin menyelesaikan PR
Menjaga kebersihan lingkungan	•	•	Upaya mempertahankan kemerdekaan dengan mengikuti kegiatan positif di lingkungan masyarakat.
	•	•	
	•	•	

15. Pubertas adalah proses perubahan dari anak – anak menuju dewasa yang ditandai dengan matangnya fungsi organ reproduksi. Masa pubertas inilah yang membedakan antara anak-anak dengan remaja atau dewasa yang ditandai dengan adanya ciri – ciri fisik.

Jodohkanlah ciri fisik pubertas pada laki-laki dan perempuan

Ciri fisik pubertas pada remaja perempuan	•	•	Pinggul melebar
Ciri fisik pubertas pada remaja laki-laki	•	•	Tumbuh jakung
		•	Payudara membesar
		•	Dada menjadi bidang