

LKPD DIGITAL

IPS KELAS 7

MASA PRA
AKSRA




Nama Lengkap

Kelas

Imun Halimah
SMPN 1 Taraju



A. simak vidio
dibawah ini! Klik di
TV



shutterstock.com · 132858848



MENCOCOKKAN AKTIVITAS

A. Urutkan Periodisasi dilihat dari Geologi, dari yang paling tua sampai yang termuda, dan menarik masukan ke dalam kotak yang disediakan

1

2


3

4

MESOZOIKUM ARKEOZOIKUM

NEOZOIKUM PALEZOIKUM

MENCOCOKKAN AKTIVITAS



B. Urutkan Corak kehidupan zaman Pra aksara dari yang paling tua sampai yang termuda, dengan cara menarik masukan ke dalam kotak yang disediakan

1

2

3

4

MEGALITIKUM


NEOLITIKUM

PALEOLITIKUM

MESOLITIKUM

MENCOCOKKAN AKTIVITAS

C. Tentukan masa Dimana alat ini dihasilkan



D. PILIH JAWABAN YANG BENAR !

DENGAN CARA KLIK PADA KOTAK JAWABAN YANG MENURUT ANDA BENAR



a. Kegiatan manusia purba mengumpulkan makanan dengan cara berburu untuk memenuhi kebutuhan hidup zaman Pra aksara,

Food Gathering

Nomaden

Food Producing



b. Kegiatan manusia purba menghasilkan makanan dengan cara bertani untuk memenuhi kebutuhan hidup zaman Pra aksara

Food Gathering

Nomaden


Food Producing

c. Alat yang digunakan untuk menggali umbi-umbian pada masa Pra Aksara

Nekara

Kapak Lonjong

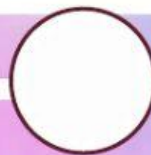
Kapak Genggam



E. Berilah Tanda Centang
pada benda zaman
Megalitihikum



Dolmen



Sarkofagus



kjokkenmoddinger



Menhir



Waruga



Nekara



Kapak Lonjong



Alat Serpilh





DREAM HOLIDAY

F. Jodohkan Benda dengan nama Benda di samping cara dengan menarik garis pada pasangan yang benar !



Waruga



Sarkofagus



abris sous roches



kjokkenmoddinger

G. Pasangkan Keterangan yang ada di kanan dengan pasangan yang ada di kiri dengan cara memasukan pada kotak yang disediakan !

abris sous roches

Dolmen

Meenhir

Sarkofagus

Berfungsi untuk menyimpan sesajen



Berfungsi untuk pemujaan pada nenek moyang



Tempat menyimpan mayat pada zaman manusia purba



Berfungsi sebagai tempat tinggal manusia purba

