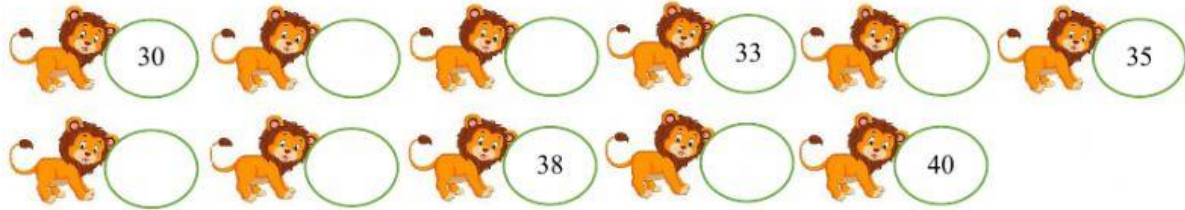










Họ và tên:.....

Bài 1: Số?




Bài 2: Điền dấu >, <, =


 34..... 40	 35..... 27	 21..... 29	 11..... 15
 30..... 30	 10..... 26	 32..... 34	 18..... 18

Bài 3: Sắp xếp các số sau:

a) Theo thứ tự từ lớn đến bé



b) Theo thứ tự từ bé đến lớn

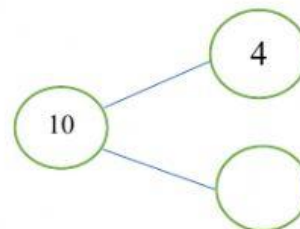


Bài 3: Viết phép tính thích hợp

Vân có 10 cái bút

Vân **cho** em 4 cái bút

Vân **còn lại** :..... cái bút ?



--	--	--	--	--