

Họ và tên:.....Lớp:.....

I. CÁC GIÁ TRỊ TĂNG DẦN.

$7 + 7 + 12$	$19 + 12 + 5$
$5 + 9 + 20$	$9 + 4 + 7$
$18 + 16 + 7$	$39 + 27 + 25 - 9$
$17 + 25 + 9$	$16 + 26 + 19$
$8 + 8 + 8$	$35 + 28 + 29 - 20$

II. THẾ GIỚI CÔN TRÙNG

Câu 1. Chuyển tổng sau thành phép nhân: $8 + 8 + 8 =$

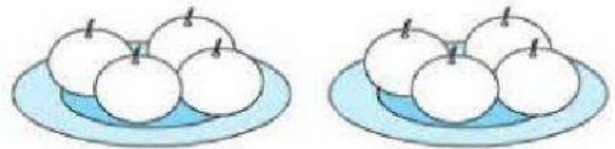
- a. 3×8 b. 8×8 c. 8×2 d. 8×3

Câu 2. Chọn tổng tương ứng với phép nhân: 6×3 .

- a. $3 + 3 + 3 + 3$ b. $6 + 6 + 6$ c. $6 + 6$ d. $3 + 3 + 3$


Câu 3. Bức ảnh bên thể hiện:

- a. 4 được lấy 4 lần b. 2 được lấy 2 lần
c. 4 được lấy 2 lần d. 2 được lấy 4 lần.



Câu 4. Phép nhân thích hợp với ảnh bên là:

- a. 3×3 b. 3×4
c. 4×3 d. 4×4



Câu 5. Chọn đáp án đúng để điền vào dấu ba chấm: $2\text{cm} \times 7 = \dots \dots$

- a. 16cm b. 12cm c. 14cm d. 9cm

Câu 6. Số thích hợp để điền vào dấu hỏi chấm là:

X	2	2
	4	6
Tích	8	?

- a. 12 b. 10 c. 8 d. 4

Câu 7. Số thích hợp để điền vào dấu hỏi chấm là:

X	5	5
	2	4
Tích	10	?


- a. 20 b. 30 c. 15 d. 25

Câu 8. Chọn đáp án đúng để điền vào dấu ba chấm: $5l \times 1 = \dots \dots$

- a. 5l b. 4l c. 6l d. 10l

Câu 9. Những bạn nào có vé xe số 20?

- a. Trang và Tứ
- b. Tịnh và Hương
- c. Trang và Hương
- d. Tứ và Tịnh



Câu 10. Để tính số chân gà dưới đây ta dùng phép tính nào?



- a. 5×2
- b. $2 + 5$
- c. 2×5
- d. $5 + 2$

III. BÀI THI LEO DỐC

Câu 1. Chuyển tổng sau thành phép nhân: $4 + 4 + 4 + 4 = \dots$

- a. 4×4
- b. 4×6
- c. 5×4
- d. 4×5

Câu 2. Chọn tổng tương ứng với phép nhân: 2×4

- a. $2 + 2 + 2$
- b. $2 + 4$
- c. $2 + 2 + 2 + 2$
- d. $4 + 4 + 4 + 4$


Câu 3. Bức ảnh bên thể hiện.

- a. 3 được lấy 5 lần
- b. 5 được lấy 5 lần
- c. 3 được lấy 3 lần
- d. 5 được lấy 3 lần.



Câu 4. Những bạn nào có vé xe số 15?

- a. Quyết và Quân
- b. Quyết và Tuyền
- c. Thúy và Quân
- d. Thúy và Tuyền



Câu 5.

$$25 - 9 = \text{☀}$$

$$2 \times \text{☾} = \text{☀}$$

$$5 \times \text{☾} - 13 = \text{☁}$$

Khi đó ☁ có giá trị bằng:.....

Câu 6. Để tính số chân dê ta dùng phép tính nào?

- a. $4 + 2$
- b. $2 + 4$
- c. 4×2
- d. 2×4



Câu 7. Số cần điền vào dấu chấm hỏi là:



Câu 8. Chi muốn điền các số 4, 5, 7, 8, 9, 12 vào các ô trong hình trên, các số ở mỗi ô là khác nhau. Biết rằng các số trong ô màu xanh có tổng số bằng 20, các số trong ô màu vàng có tổng số bằng 20. Vậy Chi phải viết số nào trong ô màu đỏ?

Màu vàng	Màu xanh	Màu vàng
Màu xanh	Màu vàng	Màu đỏ

Trả lời:.....

Câu 9. Hàng rào bên dài bao nhiêu?

- a. 25dm
- b. 23dm
- c. 28dm
- d. 33dm

