


Діагностична робота №6

1. Оленка хоче купити ляльку, а Дмитрик іграшковий мопед. Допоможи їм визначити вартість запланованої покупки.



112грн

124грн



214 грн

128грн



2. Розглянь таблицю відстаней між містами України. Дай відповідь на питання:

- Яка відстань від Вінниці до Києва? _____
- Яка відстань від Одеси до Вінниці? _____
- Яка відстань від Києва до Одеси? _____

	Вінниця	Київ	Одеса
Вінниця	-	266 км	424 км
Київ	266 км	-	476 км
Одеса	424 км	476 км	-

3. Ролики коштують 794 грн, а захисний шолом – на 419 грн дешевший. Яка вартість шолома?

- А) 365 грн Б) 375 грн В) 385 грн

4. Розглянь вивіски. Скільки годин триває робота кожного закладу у четвер? Відповідь запиши в прямокутники.




Графік роботи гуртка:

- Вівторок – 15.40 – 16.40
- Четвер – 15.40 – 16.40
- П'ятниця – 15.40 – 16.40




5. Добери три значення x, що є розв'язками нерівності $325 \cdot x < 500$

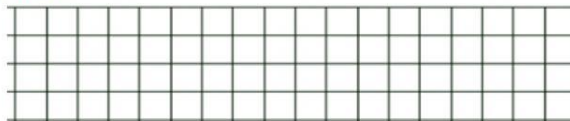
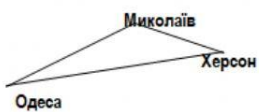


6. Виконай обчислення письмово

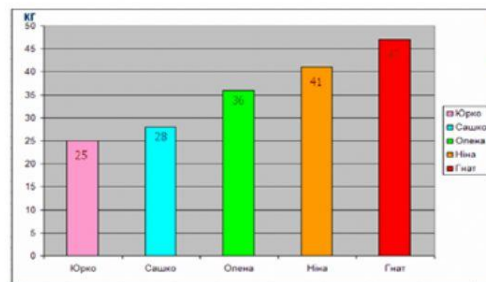
412+78 839+171 412-319



7. Відстань від Одеси до Херсона становить 201 км, від Одеси до Миколаєва 133 км, від Миколаєва до Херсона – 71 км. Яку відстань запланували проїхати туристи, рухаючись від Одеси до Херсона, а повертаючись назад в Одесу через Миколаїв?



10. Розглянь діаграму. Дай відповіді на питання:



Яка маса тіла Юрка? _____

важчий Сашко чи Оленка? _____

- На скільки кг? _____

- Хто важить 47 кг? _____

- На скільки кг **Гнат** важчий за Ніну? _____

САМООЦІНЮВАННЯ

Постав .

Завдання для мене були:

- дуже легкі
- легкі
- складні
- дуже складні
- не знаю

ОЦІНЮВАННЯ ВЧИТЕЛЕМ

- ++** має значні успіхи
- +** демонструє помітний прогрес
- ✓** досягає результату з допомогою вчителя
- !** потребує значної уваги і допомоги