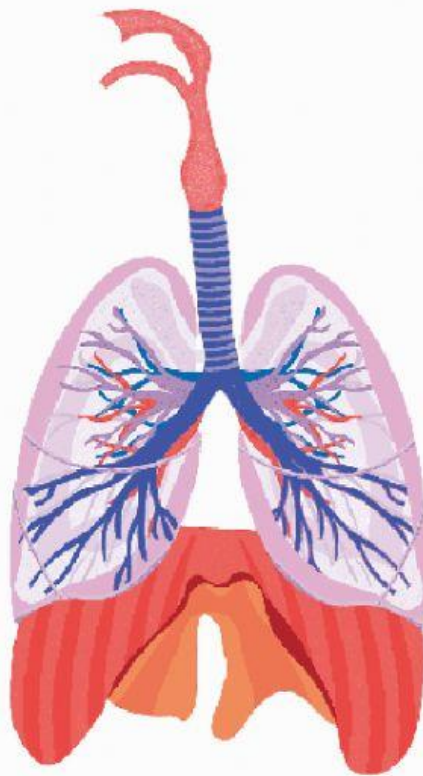


# **E-LKPD**

## **SISTEM PERNAPASAN**

Materi : Organ-Organ Pernapasan dan Mekanisme Pernapasan  
pada Manusia



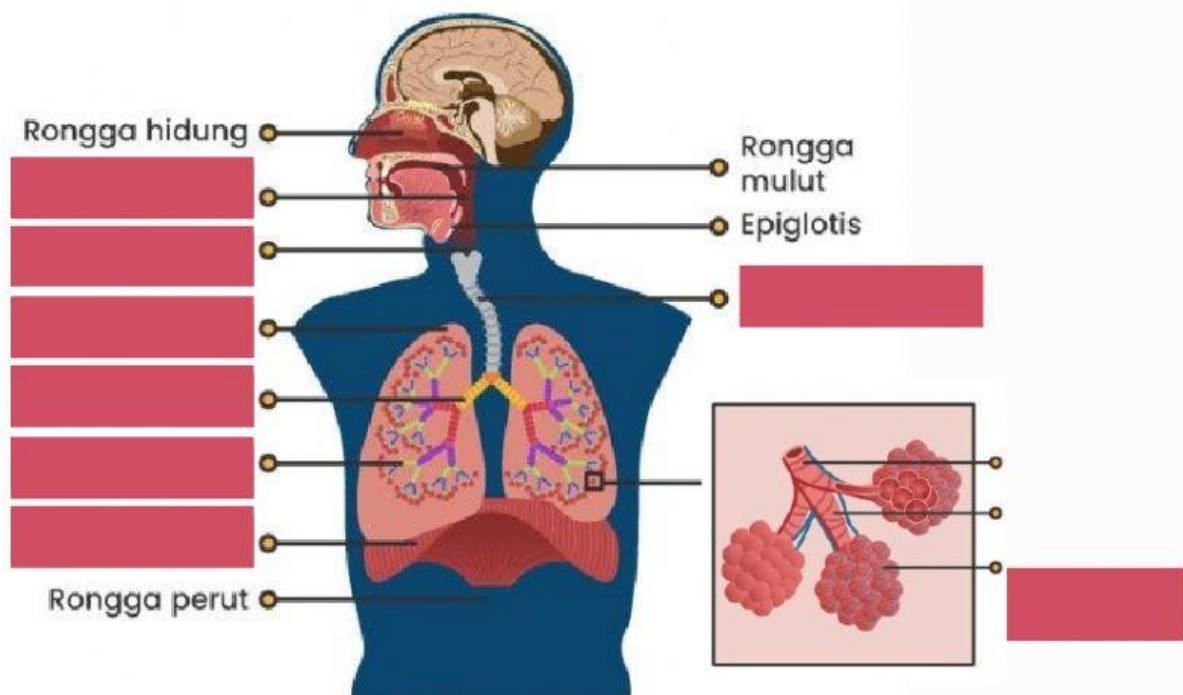
Nama :

---

Kelas :

---

1. Letakkan nama bagian organ di bawah ini pada gambar dengan cara ditarik kemudian letakkan pada kotak yang sesuai!



bronkus

faring

alveolus

bronkiolus

laring

diafragma

paru-paru

trakea

2. Pasangkanlah nama organ pernapasan di bawah ini dengan fungsinya masing-masing!

**Hidung**

Persimpangan antara rongga hidung hingga rongga mulut

**Faring**

Tempat masuk dan keluarnya udara, terdapat selaput lendir, rambut untuk menyaring udara

**Laring**

Percabangan dari brokus

**Trakea**

Tempat pertukaran oksigen dan karbondioksida

**Bronkus**

Penghubung antara faring dan trakea

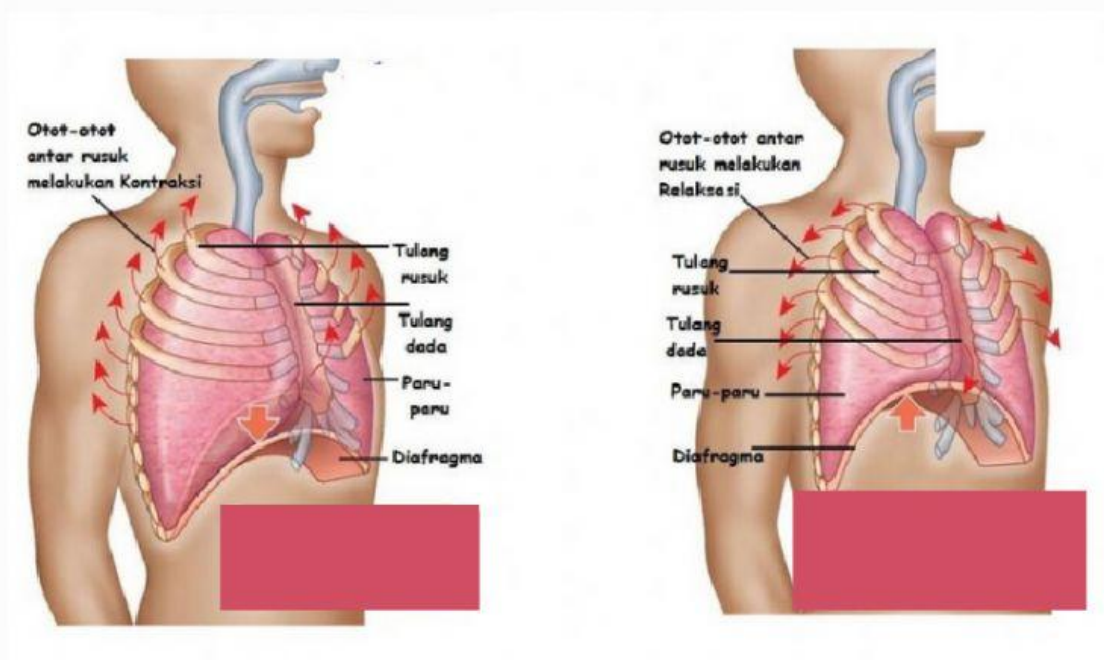
**Bronkiolus**

Saluran yang menghubungkan laring dengan bronkus

**Alveolus**

Percabangan dari trakea

- Bernapas dengan membesarkan dan mengecilkan rongga dada disebut .....
- Bernapas dengan membesarkan dan mengecilkan rongga perut disebut .....



**Ekspirasi**

**Inspirasi**