

**LATIHAN
SOAL**

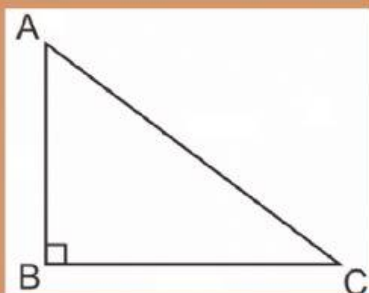
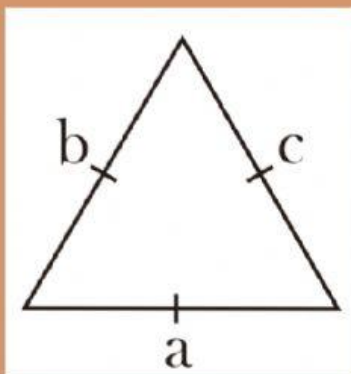
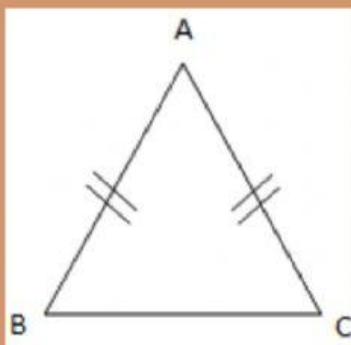
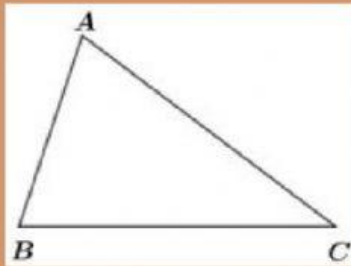
SEGITIGA



BY. SANTIRA

PKBM SAFFARI

Pasangkanlah gambar segitiga berikut
sesuai dengan nama segitiga dengan benar!



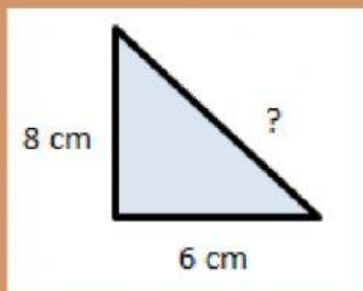
**segitiga siku-
siku**

**segitiga sama
sisi**

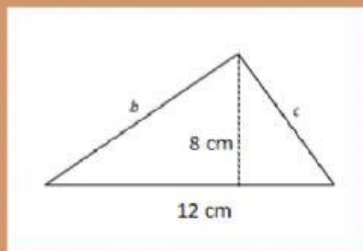
**segitiga sama
kaki**

**segitiga
sebarang**

Perhatikan gambar segitiga berikut !

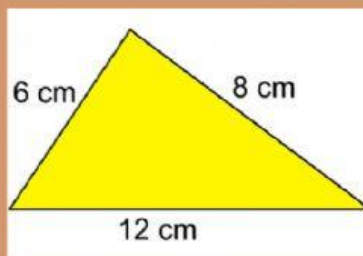


Berapa panjang dari sisi miring segitiga tersebut ?

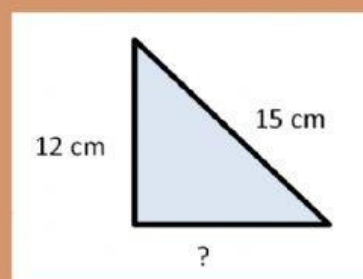


Luas segitiga tersebut adalah

cm²



berapakah keliling segitiga tersebut ?



berapakah panjang sisi segitiga yang belum diketahui ?

Pilihlah jawaban yang tepat!

Diketahui panjang sisi segitiga sama sisi adalah 7cm. berapakah keliling dari segitiga sama sisi tersebut ?

diketahui tinggi dari sebuah segitiga adalah 16cm dan alasnya adalah 8 cm. berapakah luas segitiga tersebut ?

sebuah segitiga memiliki luas 70cm^2 dengan tinggi segitiga 20cm. berapakah alas dari segitiga tersebut ?

segitiga yang memiliki dua sisi yang sama disebut dengan segitiga ?

segitiga yang memiliki tiga sisi yang sama disebut dengan segitiga ?