

Кръгова Диаграма – Практическа Дейност

1. зад. Съставете кръгова диаграма за производството на пшеница в балканските страни за 2016 г. Използвайте таблица 1 на страница 114 в учебника.

- Превърнете процентите от таблицата в градуси. $1\% = 3,6^\circ$
- Надпишете данните в градуси в тетрадките си.

Балкански страни	Дял от производството на пшеница (в %)	Дял от производството на пшеница в градуси
Турция	50,4	$50,4 \times 3,6^\circ =$
Румъния	20,2	$20,2 \times 3,6^\circ =$
България	14,3	$14,3 \times 3,6^\circ =$
Сърбия	6,5	$6,5 \times 3,6^\circ =$
Гърция	4,4	$4,4 \times 3,6^\circ =$
Други страни	4,2	$4,2 \times 3,6^\circ =$

- **Анализирайте диаграмата и направете изводи за производството на пшеница в балканските страни.**

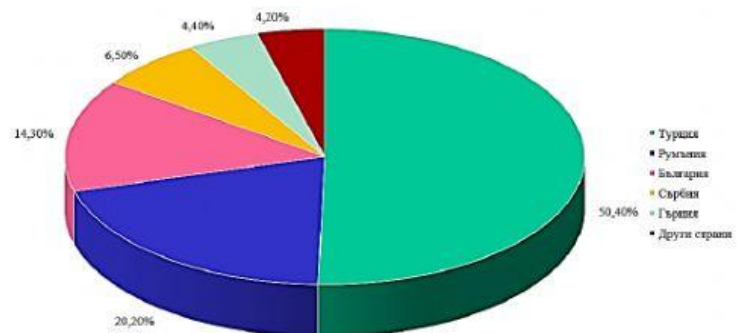
Изводи:

На се пада над 1/2 от пшеницата на Балканите.

Турция и произвеждат около от пшеницата тук.

Турция, Румъния и България са най-..... производители на пшеница на Балканския полуостров.

Производство на пшеница в балканските страни за 2016 г.



Допълнете текста като изберете от прозорчетата.

Зърнени култури са

Технически култури са

Маслодайни култури са

Фуражни култури са

Овощия са

Цитруси са

Лозата е трайно насаждение, пренесено от Сев. Африка първо в

Свържете растителността с природната зона, от която е:




Зона на листопадни широколистни гори



Зона на степи и лесостепи



Планинска зона



Зона на субтропични гори и храсти

2. зад. Съставете кръгова диаграма за производството на слънчоглед в балканските страни за 2016 г. Използвайте таблица 2 на страница 114 в учебника.

- Превърнете процентите от таблицата в градуси. 1 % = 3,6°
- Надпишете данните в градуси в тетрадките си.


Страна	Дял от производството на слънчоглед (в %)	Дял от производството на слънчоглед в градуси
Румъния	33,2	$33,2 \times 3,6^\circ = \dots\dots\dots$
България	30,6	$30,6 \times 3,6^\circ = \dots\dots\dots$
Турция	24,5	$24,5 \times 3,6^\circ = \dots\dots\dots$
Сърбия	7,5	$7,5 \times 3,6^\circ = \dots\dots\dots$
Други страни	4,2	$4,2 \times 3,6^\circ = \dots\dots\dots$

По знамената открийте и нанесете държавите в легендата на диаграмата:

България, Румъния, Турция, Сърбия

Изводи:

..... произвеждат около 2/3 от слънчогледа на Балканския полуостров. Турция произвежда около от слънчогледа. Заедно с са най-..... производители на слънчоглед на Балканите.



Моят имейл: ivelina.yordanova@sulevski-ruse.org

Напишете Finish / Завършек, издържете:

Email my answers to my teacher / Изпратете ми отговорите на моя учител:

Попълнете в съответните полета (на кирилица):

Име, фамилия; клас, №; География и икономика

Въведете имейла ми и напишете Send / Изпрати