


Nama :
Kelas :
No Absen :

Simaklah video berikut ini!



setelah menyimak video di atas yu kita berdiskusi untuk menjawab pertanyaan-pertanyaan di bawah ini:

1. Pola denah yang harus dikuasai seorang penari dan berfungsi untuk membuat posisi dalam sebuah ruang gerak disebut
2. dalam pola lantai ada dua pola dasar yaitu sebagai berikut
3. Mari menjodohkan dengan pasangan yang tepat




Tari Saman




Tari Indang



Tari Serimpi



4. Pasangkan dengan jawaban yang tepat!



Tari Yospan, papua

Tari Sekapur Sirih, Jambi

Tari Baris Cengkedan,
Bali

5. Pilih benar atau salah pada pernyataan berikut :

a. Tari Randai berasal dari sumatera Barat	<input type="checkbox"/> Benar	<input type="checkbox"/> Salah
b. Tari saman memiliki pola lantai melingkar	<input type="checkbox"/> Benar	<input type="checkbox"/> Salah

Pilihlah jawaban yang tepat!

6. Tari yang berasal dari kalimantan tengah yaitu.....

- a. Tari serimpi
- b. Tari Yospan
- c. Tari Tambun dan Bungai
- d. Tari Saman

7. Tari saman menggunakan pola lantai berupa.....

- a. Melingkar
- b. Horizontal
- c. Vertikal
- d. Diagonal

8.



Nama Tarian pada gambar disamping adalah.....

- a. Tari Indang
- b. Tari Tambun dan bungai
- c. Tari seudati
- d. Tari lego-lego