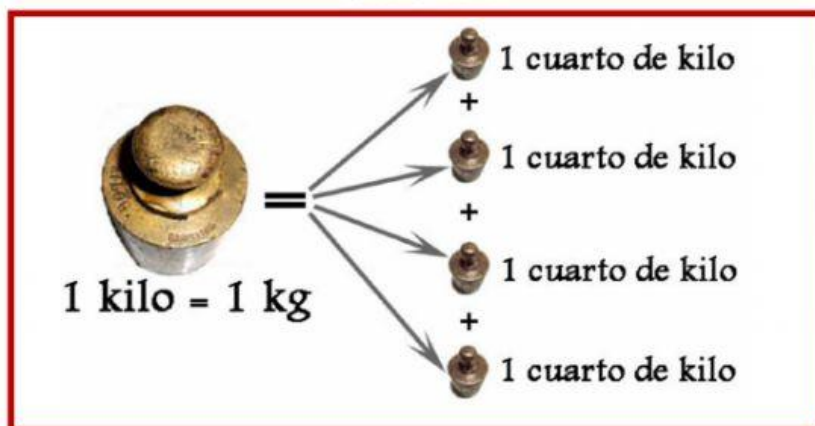


CUARTO DE KILO

1 KG = 4 CUARTOS DE KILO




Observa.



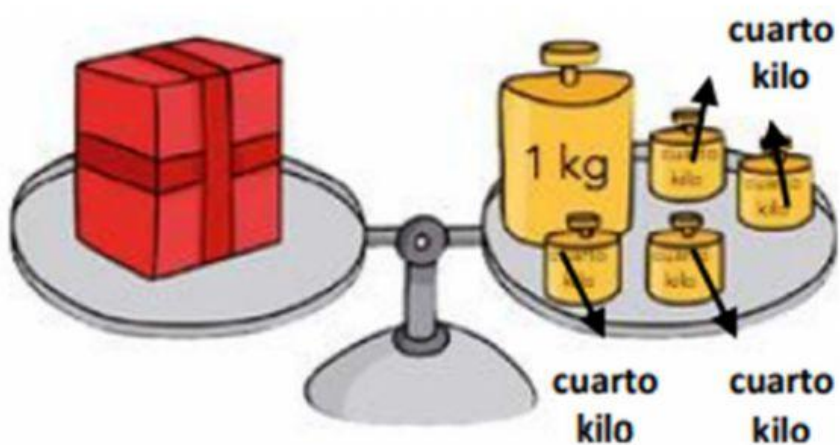
1. Estas pesas son de cuarto de kilo. ¿Cuántos kilos pesan? Arrastra.

- | | | | |
|------|------|------|------|
| 1 kg | 2 kg | 3 kg | 4 kg |
| 5 kg | | | |

2. Estas pesas son de cuarto de kilo. ¿Cuántos kilos pesan? Elige.



3. ¿Cuánto pesa el paquete? Elige.



4. Lee y elige.

Tengo 4 cuartos de kilo. ¿Cuántos kilos tengo?

4 cuartos
de
kilo

1	3 kg
2	4 kg
3	2 kg
4	1 kg

Tengo 12 cuartos de kilo. ¿Cuántos kilos tengo?

4 cuartos
de
kilo

4 cuartos
de
kilo

1	3 kg
2	4 kg
3	2 kg
4	1 kg

Tengo 8 cuartos de kilo. ¿Cuántos kilos tengo?

4 cuartos
de
kilo

4 cuartos
de
kilo

1 3 kg

2 4 kg

3 2 kg

4 1 kg