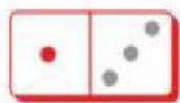



1. Назви всі пазли в кожному рядку, які відповідають кольоровій деталі зліва.



2. Скільки сірих крапочок має бути в порожніх клітинках доміно?



4




7



10



8



9