

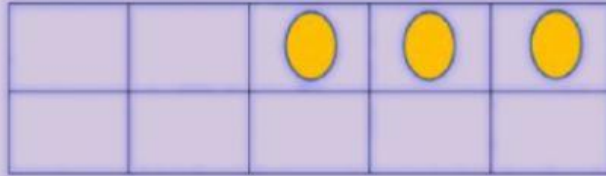
الجمع بتكوين العشرة

أوجد ناتج الجمع مستعملاً



السؤال ١

$$= ٥ + ٨$$

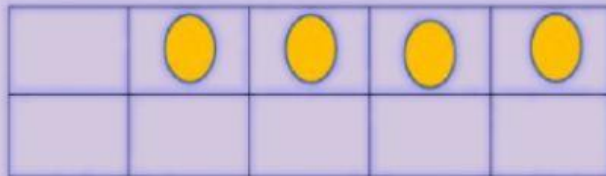
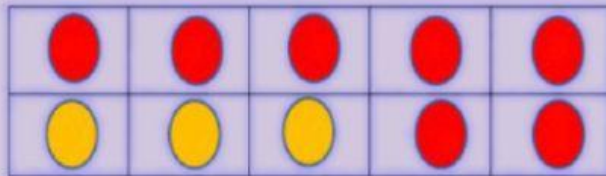


بعد تمثيل الأعداد بالدوائر الملونة تصبح

$$= +$$

السؤال ٢

$$= ٧ + ٧$$



بعد تمثيل الأعداد بالدوائر الملونة تصبح

$$= +$$

معلمة المارة: هدى العنزي