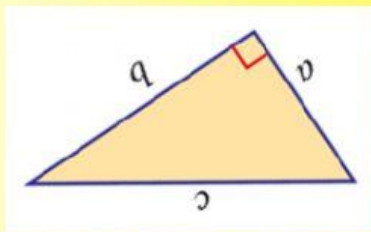




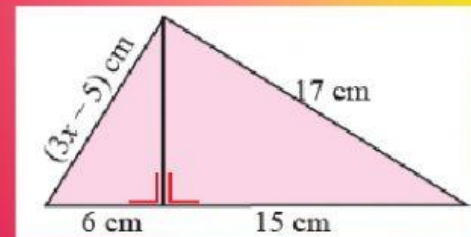
PENILAIAN DIAGNOSTIK

MATA PELAJARAN	MATEMATIKA
KELAS	VIII
MATERI	TEOREMA PYTHAGORAS
NAMA
NO ABSEN	

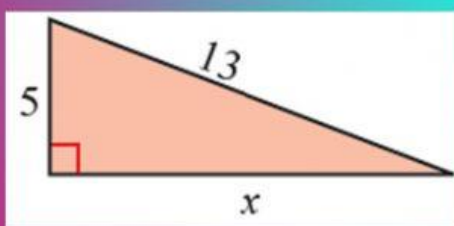
Isilah titik-titik pada setiap kotak dengan jawaban yang benar



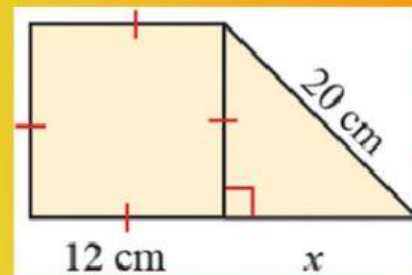
Sisi miring segitiga yaitu



$x = \dots$



$x = \dots$



$x = \dots$

Jenis Segitiga yang mempunyai panjang sisi 5, 10, 12 yaitu

Jenis Segitiga yang mempunyai panjang sisi 7, 24, 25 yaitu



PENILAIAN DIAGNOSTIK

Jenis Segitiga yang mempunyai panjang sisi 8, 16, 17 yaitu

