

Nome: .....



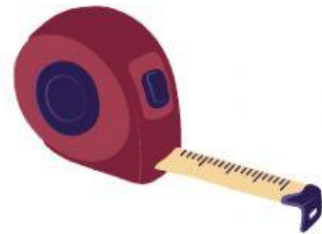
# Medidas de comprimento

## Exercícios



1 - Ligue os instrumentos de medidas ao seus nomes:


Régua



Fita métrica



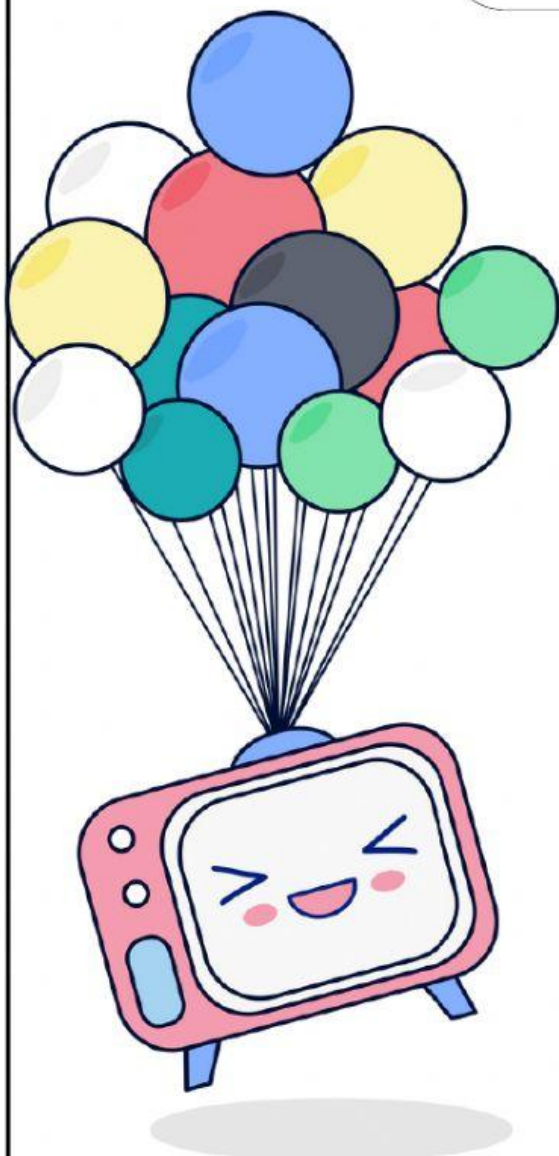
Trena



2 - Preencha as lacunas abaixo sobre a unidade de medida que estudamos.

**Medimos o comprimento de terrenos, de cordões, de tecidos, e a altura das pessoas em .**

**Assim, seu símbolo é representado pela letra .**



3 - Marque a alternativa que indica qual é o instrumento que a costureira usa para tirar as medidas das roupas:

- ☐ a) **Fita métrica;**
- ☐ b) **Régua;**
- ☐ c) **Trena;**
- ☐ d) **Metro articulado**

