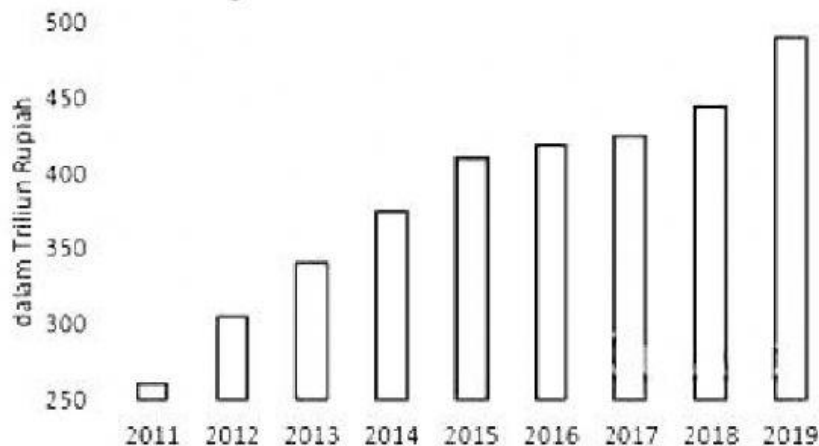


Keberhasilan komponen sistem pendidikan dalam melaksanakan fungsinya bergantung pada sarana penunjang satuan-satuan pendidikan. Sarana penunjang sistem tersebut antara lain kurikulum, tenaga kependidikan, serta sumber daya pendidikan dan pengelolaan. Penyediaan sumber daya pendidikan meliputi gedung dan perlengkapannya, sumber belajar, seperti buku dan alat bantu mengajar, serta dana pengelolaan yang memadai.

Pemerintah menunjang keberhasilan sistem pendidikan tersebut dengan menetapkan UU Nomor 20 Tahun 2003. Pada pasal 49 ayat (1) dinyatakan bahwa dana pendidikan selain gaji pendidik dan biaya pendidikan kedinasan dialokasikan minimal 20% dari Anggaran Pendapatan dan Belanja Negara (APBN) pada sektor pendidikan dan minimal 20% dari Anggaran Pendapatan dan Belanja Daerah (APBD). Alokasi dana untuk anggaran pendidikan tahun 2019 sebesar Rp492,5 triliun atau 20% dari belanja negara yang mencapai Rp2.461,1 triliun. Adapun target yang dicapai tahun ini adalah penerima Program Indonesia Pintar sebanyak 20,1 juta siswa, Bantuan Operasional Sekolah (BOS) 57 juta siswa, dan beasiswa Bidik Misi 472 ribu mahasiswa. Selain itu, untuk pembangunan 56 ribu ruang kelas melalui Kementerian Pendidikan, Kementerian Agama, Kementerian PUPR, maupun melalui Dana Alokasi Khusus. Data anggaran pendidikan Indonesia tahun 2011 – 2019 sesuai gambar 1.



Gambar 1

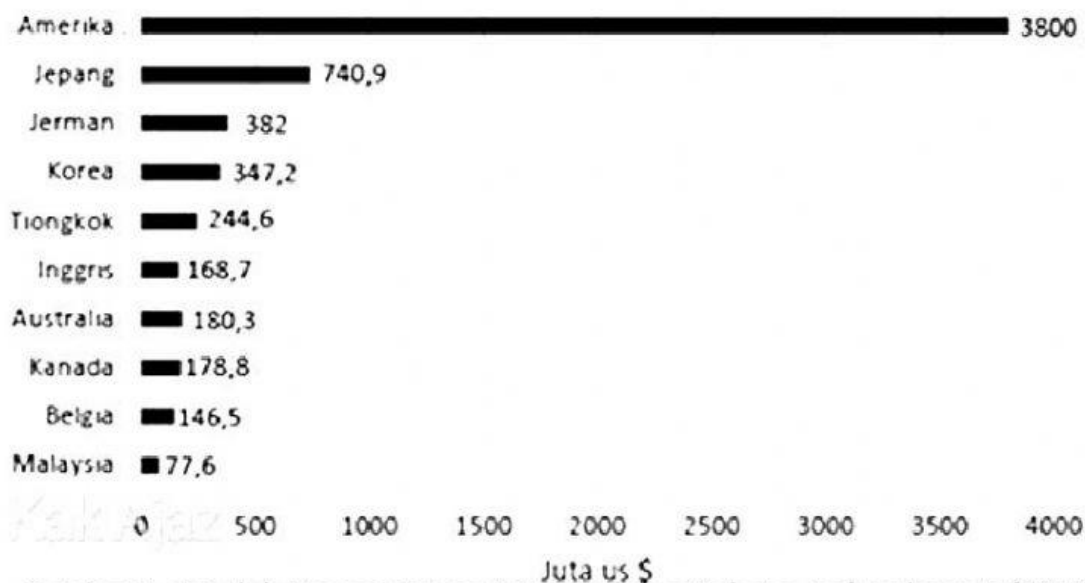
(Diadaptasi dari [www.databoks.katadata.co.id](http://www.databoks.katadata.co.id))

- Berdasarkan paragraf 1, manakah di bawah ini pernyataan yang BENAR?
  - Kurikulum termasuk sumber daya pendidikan.
  - Buku-buku pelajaran merupakan kurikulum pendidikan.
  - Alat bantu mengajar termasuk sumber daya pendidikan.
  - Tenaga kependidikan termasuk sumber daya pendidikan.
  - Dana pengelolaan yang memadai termasuk satuan pendidikan.
- Berdasarkan gambar 1, pada tahun berapa anggaran pendidikan melebihi Rp450 triliun?
  - 2015
  - 2016
  - 2017
  - 2018
  - 2019
- Apabila alokasi dana untuk anggaran pendidikan 2019 naik menjadi 25% maka berapa triliun anggaran yang disediakan untuk pendidikan dari anggaran belanja negara?
  - 492 triliun
  - 561 triliun

- C. 615 triliun
- D. 729 triliun
- E. 820 triliun

Industri tekstil dan garmen saat ini menjadi industri strategis bagi perekonomian negara mengingat Indonesia memiliki 250 juta penduduk. Industri ini merupakan sektor manufaktur terbesar ketiga dan menjadi salah satu industri yang paling banyak menyerap tenaga kerja. Pada tahun 2017, ekspor tekstil dan produk tekstil Indonesia mencapai US\$12,4 miliar yang mana melebihi target Asosiasi Pertekstilan Indonesia (API) sebesar US\$11,8 miliar.

Pakaian jadi (konveksi) merupakan salah satu andalan ekspor nonmigas Indonesia. Nilai ekspor konveksi tekstil tersebut merupakan terbesar ketiga setelah batu bara US\$20,63 miliar dan minyak sawit US\$17,89 miliar. Data Badan Pusat Statistik mencatat nilai ekspor pakaian jadi nasional ke AS sepanjang 2018 mencapai US\$3,78 miliar (Rp52,87 triliun) tumbuh 9,3% dari tahun sebelumnya. Negara tujuan ekspor konveksi terbesar kedua adalah Jepang dengan nilai US\$740,9 juta dan ketiga adalah Jerman dengan nilai US\$372,48 juta. Data 10 negara tujuan utama ekspor pakaian jadi Indonesia disajikan dalam gambar2.

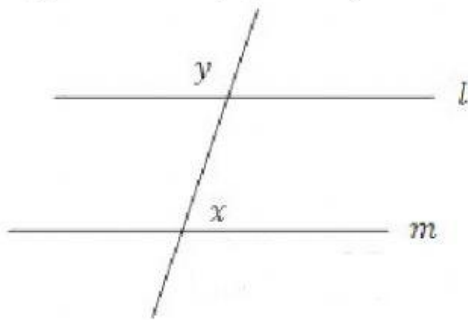


Gambar 2. Sepuluh Negara Tujuan Utama Ekspor Pakaian Jadi Indonesia (2018)

4. Berdasarkan paragraf 1, manakah di bawah ini pernyataan yang BENAR?
  - A. Industri tekstil dan garmen menyerap 250 juta tenaga kerja.
  - B. Industri tekstil termasuk tiga besar sektor manufaktur Indonesia.
  - C. Industri tekstil berhasil mengekspor produk senilai US\$11,8 miliar.
  - D. Industri tekstil merupakan kebutuhan pokok seluruh rakyat Indonesia.
  - E. Industri tekstil tanah air dipantau oleh Asosiasi Pertekstilan Indonesia(API).
5. Berdasarkan paragraf 2, manakah pernyataan di bawah ini yang PALING MUNGKIN benar mengenai industri konveksi?
  - A. Industri konveksi merupakan produk ekspor impor Indonesia.
  - B. Industri konveksi termasuk dalam pendapatan sektor nonmigas.
  - C. Industri konveksi memiliki nilai ekspor lebih tinggi daripada batu bara.
  - D. Industri konveksi merupakan sektor manufaktur terbesar di Indonesia.
  - E. Industri konveksi memiliki nilai ekspor lebih tinggi daripada kelapa sawit.
6. Berdasarkan gambar 2, negara tujuan ekspor manakah yang memberikan nilai ekspor terendah ketiga?
  - A. Belgia
  - B. Inggris
  - C. Kanada

- D. Malaysia
- E. Australia

7. Berdasarkan gambar 2, negara tujuan ekspor manakah yang bernilai US\$347,2 juta?
- A. Jepang
  - B. Kanada
  - C. Australia
  - D. Korea Selatan
  - E. Amerika Serikat
8. Berdasarkan gambar 2, negara tujuan ekspor manakah yang memberikan nilai ekspor lebih dari US\$500 juta?
- A. Belgia
  - B. Jerman
  - C. Jepang
  - D. Tiongkok
  - E. Korea Selatan
9. Persentase nilai ekspor pakaian jadi ke Amerika dibandingkan dari 10 negara tujuan utama ekspor pakaian jadi Indonesia pada tahun 2018 adalah...
- A. 60,24%
  - B. 60,31%
  - C. 60,45%
  - D. 60,59%
  - E. 60,64%
10. Pada gambar berikut,  $l \parallel m$ . Berapakah nilai dari  $x$ ?



- 1)  $x = 3y$
- 2)  $y = 180^\circ - x$

- A. Pernyataan (1) SAJA cukup untuk menjawab pertanyaan, tetapi pernyataan (2) SAJA tidak cukup.
- B. Pernyataan (2) SAJA cukup untuk menjawab pertanyaan, tetapi pernyataan (1) SAJA tidak cukup.
- C. DUA pernyataan BERSAMA-SAMA cukup untuk menjawab pertanyaan, tetapi SATU pernyataan SAJA tidak cukup.
- D. Pernyataan (1) SAJA cukup untuk menjawab pertanyaan dan pernyataan (2) SAJA cukup.
- E. Pernyataan (1) dan pernyataan (2) tidak cukup untuk menjawab pertanyaan.