
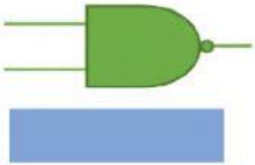


Resuelve el siguiente examen, solo tienes una oportunidad.



1. En el siguiente Ejercicio arrastra la palabra de la derecha y acomodala en la imagen que corresponda.



Compuerta AND

Multimetro

Protoboard

Compuerta NAND

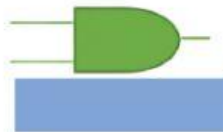
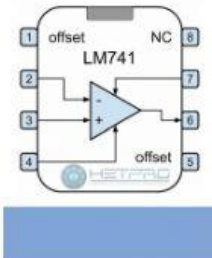
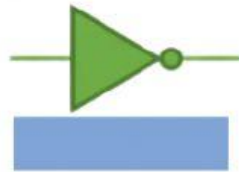

Inversor

Relevador

Transistor

LED

Opam Negativo



2. En el siguiente ejercicio selecciona la respuesta correcta:

a) El sistema Binario se compone de:

- ☐ Alto y Bajo
- ☐ 0001
- ☐ 0 al 9 y A, B, C, D, E, F
- ☐ 0, 1, 2, 3, 4, 5, 6, 7 y 8
- ☐ 0 y 1

c) El sistema OCTAL se compone de:

- ☐ Alto y Bajo
- ☐ 0001
- ☐ 0 al 9 y A, B, C, D, E, F
- ☐ 0, 1, 2, 3, 4, 5, 6, 7 y 8
- ☐ 0 y 1

b) El sistema HEXADECIMAL se compone de:

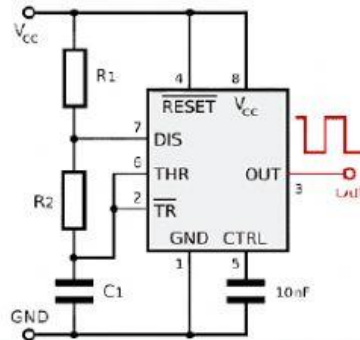
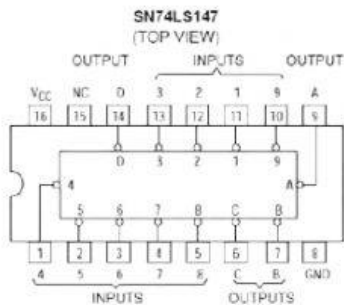
- ☐ Alto y Bajo
- ☐ 0001
- ☐ 0 al 9 y A, B, C, D, E, F
- ☐ 0, 1, 2, 3, 4, 5, 6, 7 y 8
- ☐ 0 y 1

d) El voltaje de 5v y Tierra se escribe:

- ☐ Alto y Bajo
- ☐ 0001
- ☐ 0 al 9 y A, B, C, D, E, F
- ☐ 0, 1, 2, 3, 4, 5, 6, 7 y 8
- ☐ 0 y 1



3. En el siguiente Ejercicio arrastra la palabra de la derecha y acomódala en la imagen que corresponda.



Decodificador

Codificador

Timer 555

Opam Positivo

