

LEMBAR KERJA PESERTA DIDIK PERKEMBANGBIAKAN HEWAN

1. Hewan dibawah ini berkembangbiak dengan cara



A. Ovipar

C. Ovovivipar

B. Vivipar

D. Partenognsis

2. Perhatikan ciri-ciri hewan dibawah ini!

- Tidak memiliki daun telinga
- bukan jenis hewan mamalia
- biasanya hewan unggas

berdasarkan ciri-ciri diatas hewan tersebut berkembangbiak secara

A. Ovipar

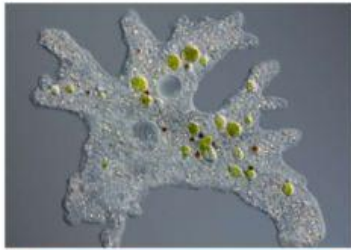
C. Ovovivipar

B. Vivipar

D. Membelah diri



3. Pilihlah jenis perkembangbiakan yang yang paling tepat!



4. Buatlah garis ke jawaban yang tepat!

Perkembangbiakan hewan dengan cara memutuskan bagian tubuh untuk membentuk organisme baru disebut



Partenogenesis

Buaya merupakan salah satu hewan yang berkembangbiak dengan



Tunas

perkembangbiakan hewan dimana pertumbuhan dan perkembangan telur tanpa dibuahi sel kelamin induk jantan merupakan perkembangbiakan dengan



Ovovivipar


Hydra merupakan hewan yang berkembangbiak dengan




Fragmentasi



5. Tariklah jawaban yang benar ke kolom yang disediakan!

 Memiliki telinga merupakan salah satu ciri hewan yang berkembangbiak dengan

 Hewan unggas banyak berkembangbiak dengan cara

 Perkembangbiakan hewan dengan cara memisahkan bagian tubuh induk menjadi 2 bagian yang sama untuk membentuk individu baru disebut


Pilih disini ya.....

Ovipar

Membelah diri

Vivipar





Nur Ahlul Khotimah
A510210045
3A

