

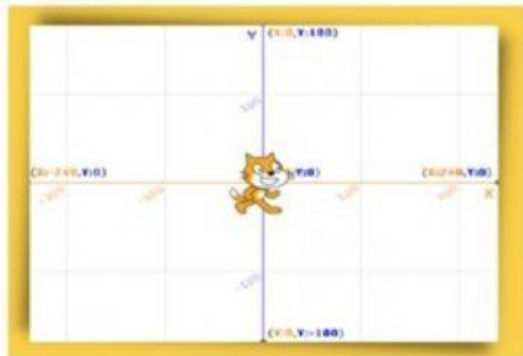


ใบงาน “พิกัดตำแหน่ง Scratch”

วิชา วิทยาการคำนวณ ชั้นประถมศึกษาปีที่ ๖



คำชี้แจง ให้นักเรียนดูภาพและเลือกคำตอบของพิกัด X และ Y ให้ถูกต้อง



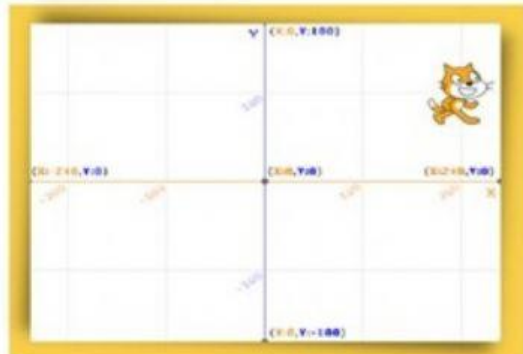
when  clicked

go to x: y:



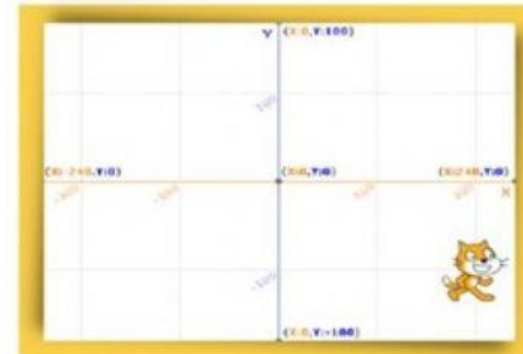
when  clicked

go to x: y:



when  clicked

go to x: y:



when  clicked

go to x: y:

ชื่อ - นามสกุล.....ชั้น ป.๖/.....เลขที่.....

ชื่อ - นามสกุล.....ชั้น ป.๖/.....เลขที่.....