

LKS SBdP KELAS 4 TEMA 6 SUBTEMA 1



NAMA :







SIMAKLAH VIDIO BERIKUT !



SETELAH MENYIMAK VIDIO, JAWABLAH PERTANYAAN BERIKUT !

1. Tanda yang digunakan untuk menunjukkan cepat lambatnya lagu disebut
2. Ukuran dari tempo disebut
3. Dimanakah tanda tempo sebuah lagu dituliskan

Jodohkan pernyataan sebelah kiri dengan pernyataan sebelah kanan dengan tepat dengan memindahkan jawaban yang sesuai !

TANDA TEMPO SEDANG	 	<div>LARGO</div> <div>ALLEGRETO</div> <div>ANDANTE</div>
TANDA TEMPO CEPAT	 	<div>MODERATO</div> <div>PRESTO</div> <div>LETO</div>
TANDA TEMPO RENDAH	 	<div>MAESTOSO</div>

Jawablah pernyataan berikut dengan jawaban B (benar) atau S (salah) !

1. Lagu mengheningkan Cipta termasuk jenis lagu dengan tempo cepat
2. Lagu Naik-naik Kepuncak Gunung termasuk jenis lagu dengan tempo sedang
3. Lagu Halo Halo Bandung termasuk jenis lagu dengan tempo cepat
4. Lagu Syukur termasuk jenis lagu dengan tempo rendah
5. Lagu Sorak-sorak Bergembira termasuk jenis lagu dengan tempo sedang