

## Ôn Toán HK I - 4

**Câu 1. Đúng ghi Đ, sai ghi S:**

a)  $10 > 6$

b)  $7 = 9$

c)  $3 + 7 < 10$

d)  $8 - 2 = 6$

**Câu 2. Điền dấu  $>$ ,  $<$ ,  $=$  vào ô trống:**

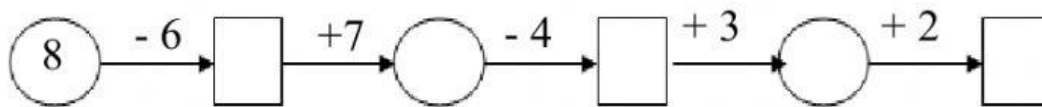
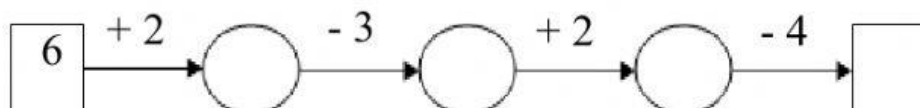
$2 + 3$    $3 + 2$

$7 + 3$    $7 - 3$

$6 + 1$    $10 - 2$

$10 + 0$    $8 - 4$

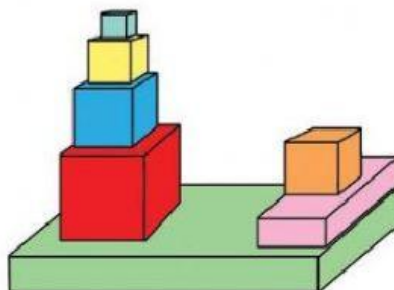
**Câu 3. Số ?**



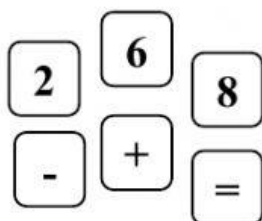
**Câu 4. Hình bên có:**

a)  khối hộp chữ nhật.

b)  khối lập phương.



**Câu 5. Cho các số 2, 6, 8 và các dấu phép tính +, -, =. Hãy lập 1 phép cộng và 1 phép trừ :**



--	--	--	--	--

--	--	--	--	--