



Lembar Kerja Peserta Didik

Dengan mengerjakan Lembar Kerja Peserta Didik diharapkan :

1. Mengetahui Jenis segitiga
2. Mengetahui Sifat segitiga

Nama :

Kelas :


**BANGUN DATAR
SEGITIGA**

SMP NEGERI 1 CIWARU

Jl. Siliwangi No.55 Ciwaru, Kec.Ciwaru, Kab. Kuningan-Jawa Barat

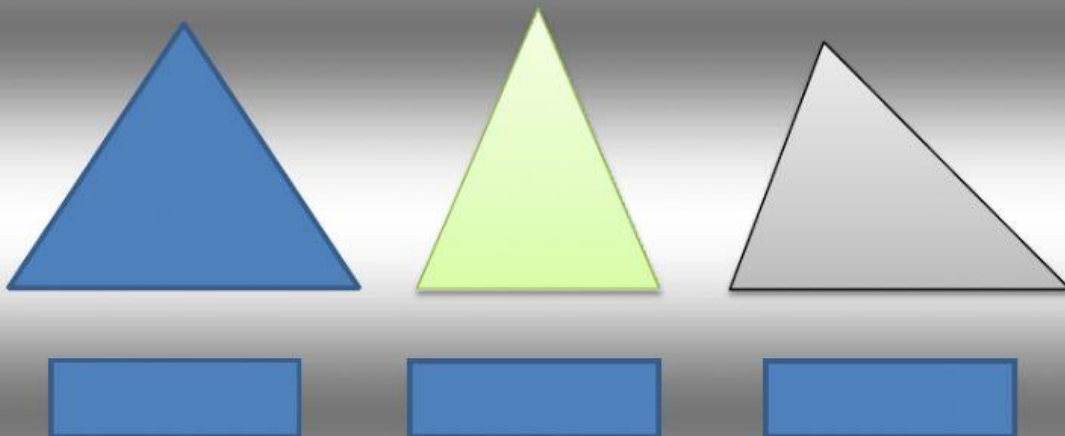
BAGIAN 1 : SIMAK VIDEO PEMBELAJARAN BERIKUT INI !

SEGITIGA



BAGIAN 2 : SOAL PILIHAN

Segitiga Berdasarkan Panjang sisinya



SEGITIGA

DEFINISI SEGITIGA
???

a. Bangun datar yang memiliki 3 sisi dan 3 sudut

b. Bangun datar yang memiliki 3 sisi

c. Bangun datar yang memiliki 3 sudut

Segitiga Berdasarkan Panjang sisinya

MENJODOHKAN



Ketiga sisinya berlainan

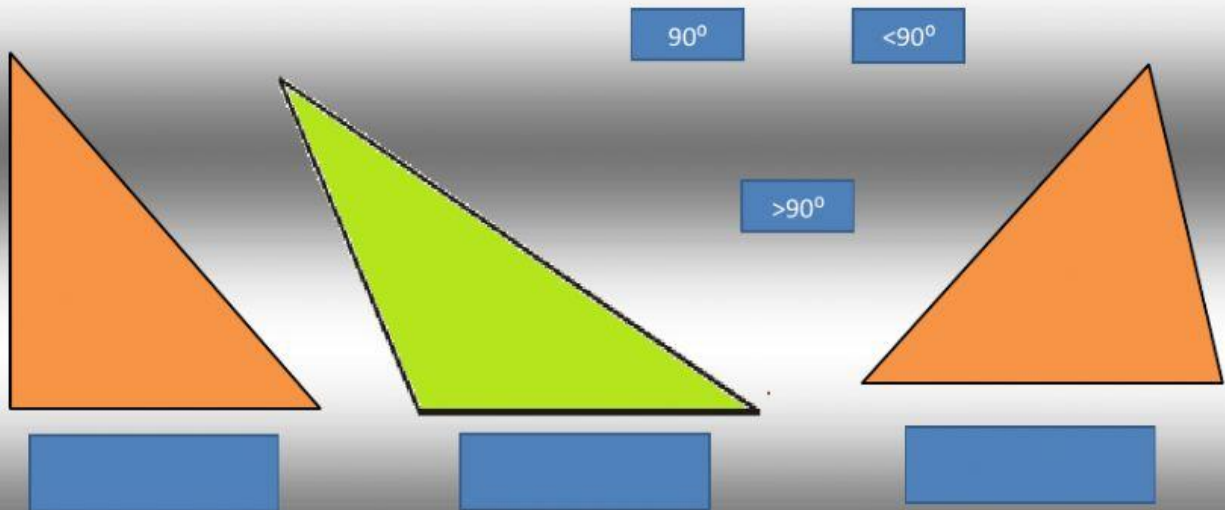


Ketiga sisinya sama panjang



Dua buah sisinya sama panjang

Segitiga Berdasarkan Sudutnya



Sebutkan Sifat – sifat Segitiga Sembarang

1.
2.

Sebutkan Segitiga berdasarkan jenis sudutnya dari mulai sudut terkecil

1.
2.
3.