

Nome:

Frações unitárias mais usuais



Exercícios



1 - Marque a alternativa correta sobre frações usuais:

- a) Uma fração é composta por um denominador e produto;
- b) O denominador implica quantas partes foram divididas ao todo;
- c) O numerador indica quantas partes foram divididas ao todo;
- d) A parte debaixo da fração corresponde ao numerador


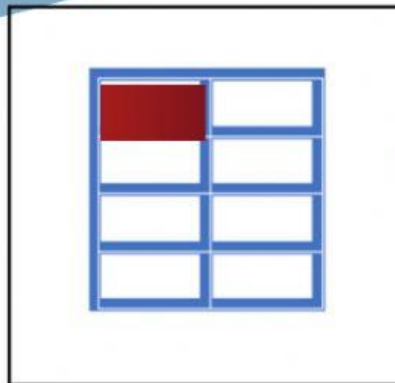
2 - Preencha o espaço em branco respondendo a seguinte situação: a pizza abaixo foi dividida em 8 pedaços, sendo que foi comido 1. Qual é a fração que representa a parte que foi comida? (basta somente a fração)



R -



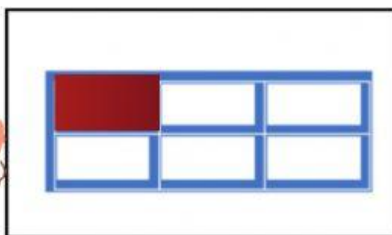
3 - Ligue os desenhos as frações que representam as partes pintadas



$\frac{1}{8}$

$\frac{1}{5}$

$\frac{1}{6}$



$\frac{1}{2}$

$\frac{1}{5}$

$\frac{1}{6}$