





















Тема. Класифікація тварин.

1. Визнач до якої групи належать ці тварини.

|                      |   |   |  |   |   |
|----------------------|---|---|--|---|---|
| <input type="text"/> |  |  |  |  |  |
| <input type="text"/> |  |  |  |  |  |
| <input type="text"/> |  |  |   |   |  |
| <input type="text"/> |  |  |   |   |  |

2. Уважно прочитай та виконай завдання.

Швидкість польоту журавля становить 50 км/год, горобця — 40 км/год, голуба — 70 км/год, стрижа — 150 км/год. Який птах літає найшвидше? Визнач, яка смужка на діаграмі позначає швидкість руху кожного птаха, запиши біля смужок відповідні назви.

