




LEMBAR KERJA PESERTA DIDIK GARIS DAN SUDUT

by: Deya Permatasari (212151119)



Matematika Untuk SMP/MTS
Kelas VII Semester 2



MEMBUAT SOAL LKPD LIVEWORKSHEET

Soal Pilihan Ganda

Disebut apakah dua garis yang memiliki satu titik persekutuan...

a. Dua garis berimpit

c. Dua garis bersilangan

b. Dua garis lengkung

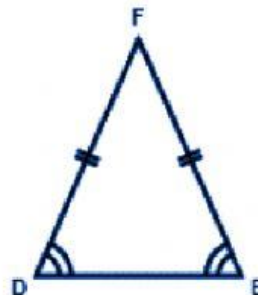
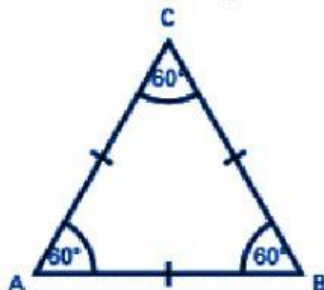
d. Dua garis berpotongan

Soal Isian Singkat Dan Paragraf

1. Dua garis yang tidak memiliki persekutuan atau dua garis yang tidak akan berpotongan disebut dua garis...
2. Jelaskan sifat-sifat garis sejajar...

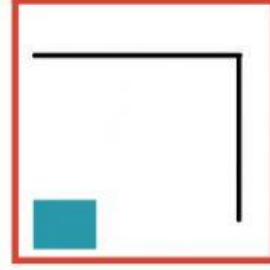
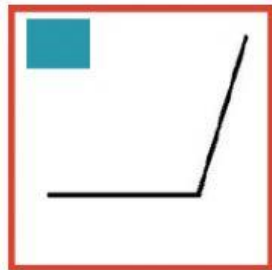
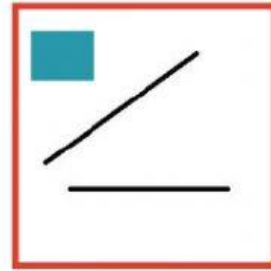

Soal Drop Down

Apa nama segitiga dibawah ini berdasarkan sisinya ?



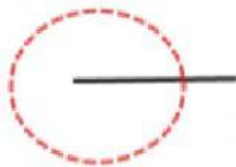
Soal Check Box

Perhatikan keempat gambar dibawah ini, tentukanlah mana yang merupakan sudut

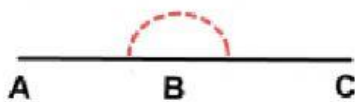


Soal Join Arrow

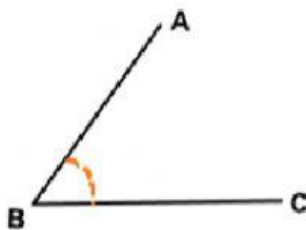
Pasangkan gambar sudut berikut dengan jenis sudut yang tepat



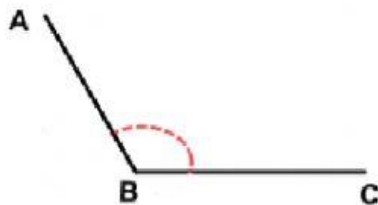
Sudut Siku-Siku



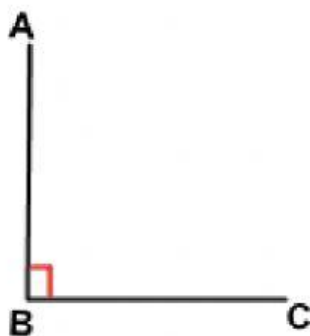
Sudut Lancip



Sudut Tumpul



Sudut Refleks



Sudut Penuh



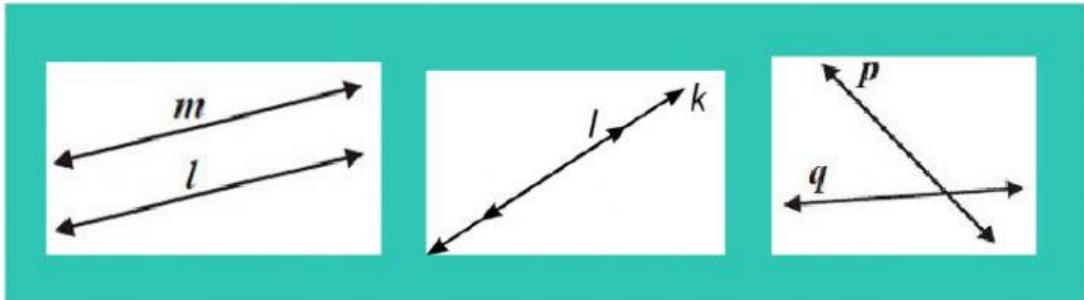
Sudut Nol Derajat



Sudut Lurus

Soal Drag and Drop

Pindahkan kedudukan garis di samping ke kotak yang tepat



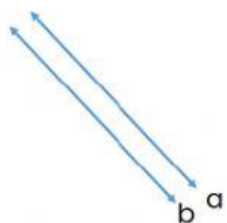
Garis Berimpit

Garis Berpotongan

Garis Sejajar

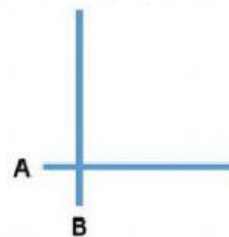
Soal Listening

Dengarkan suaranya dan pilih benar atau salah



Benar

Salah

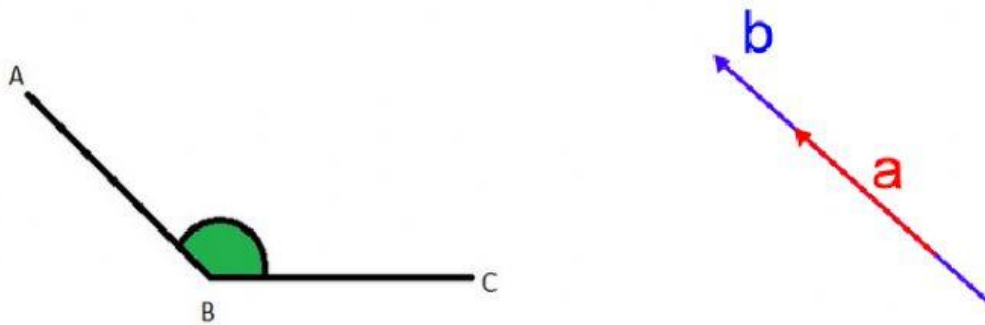


Benar

Salah

Soal Speaking

Rekam suaramu untuk menyebutkan gambar berikut dengan cara menekan tombol rekam



Soal Word Search

CARI KATA ; LANCIP, LURUS, SIKU-SIKU, SUDUT, TUMPUL, TEGAK, GARIS, BERHIMPIT, SEJAJAR, LENGKUNG

S	S	I	K	U	S	I	K	U	U
S	U	D	U	T	S	I	Y	P	I
G	R	S	E	J	A	J	A	R	O
T	U	M	P	U	L	D	Y	T	P
E	L	A	N	C	I	P	Q	R	S
G	A	R	I	S	R	R	A	T	F
A	L	E	N	G	K	U	N	G	J
K	B	E	R	H	I	M	P	I	T