



PEMERINTAH KABUPATEN SINJAI

DINAS PENDIDIKAN

SD NEGERI 68 MANIPI KEC. SINJAI BARAT

Jl. Lembah Harapan Manipi Kel. Tassililu, Kec. Sinjai Barat ☒ 92653 Manipi

SOAL PENILAIAN AKHIR SEMESTER (PAS)

Tema : 3. Makanan Sehat

Kelas/ Smt : V (Lima)/ Ganjil

Tahun Pelajaran: 2022/2023

Nama Siswa :

Mapel	KD	No. Soal	Nilai	Ketuntasan	TTD Guru	TTD Orang Tua
PPKn	3.3	1, 5, 9, & 13		Tuntas / Remedial		
Indonesia	3.4	2, 6, 10, & 17		Tuntas / Remedial		
IPA	3.3	7, 11, 14, & 18		Tuntas / Remedial		
IPS	3.2	3, 8, 15, & 19		Tuntas / Remedial		
SBdP	3.3 & 3.4	4, 12, 16, & 20		Tuntas / Remedial		

A. PILIHAN GANDA

Jawablah pertanyaan di bawah ini dengan memberi tanda silang (×) pada pilihan jawaban yang paling benar!

1. Perhatikan gambar berikut !



Dengan adanya keberagaman dapat mempererat hubungan masyarakat di Indonesia. Berikut ini yang termasuk perwujudan sikap menghargai keberagaman berdasarkan gambar di atas adalah...

- A. Kurang menghargai kebebasan menjalankan ibadah sesuai dengan agama dan kepercayaannya.
- B. Menjalankan ajaran tidak sesuai dengan agama dan kepercayaan masing-masing.
- C. Tidak menghormati antar pemeluk agama dan penganut-penganut kepercayaan.
- D. Tidak memaksakan suatu agama dan kepercayaan terhadap orang lain.

2. Perhatikan tabel berikut!

i	Iklan menggunakan kalimat persuasif atau bersifat mengajak/mempengaruhi
ii	Iklan dibuat dengan tidak memperhatikan tata Bahasa, etika dan target
iii	Bahasa iklan dibuat untuk merendahkan perusahaan lain
iv	Iklan menggunakan Bahasa atau slogan yang menarik

Berdasarkan tabel di atas, yang merupakan ciri bahasa iklan adalah

- A. i dan ii
- B. ii dan iii
- C. i dan iv
- D. iii dan iv

3. Perhatikan tabel berikut!

i	Kakak dan adik bermain bersama
ii	Pada jam istirahat, semua siswa bermain di halaman
iii	Siswa kelas lima melakukan musyawarah memilih ketua kelas
iv	Warga kampung mengadakan kerja bakti membersihkan lingkungan

Interaksi sosial dapat terjadi dimana saja. Berdasarkan tabel di atas yang merupakan contoh interaksi di lingkungan sekolah adalah....

- A. i dan ii
- B. ii dan iii
- C. iii dan iv
- D. iv dan i

4. Perhatikan gambar berikut!



Tarian pada gambar di atas berasal dari Kalimantan Timur, tari tersebut merupakan tari....

- A. Kancet papatai
- B. Reog ponorogo
- C. Baksa kembang
- D. Kuda lumping

B. PILIHAN GANDA KOMPLEKS

Berilah tanda centang (✓) pada jawaban yang benar! Jawaban dapat lebih dari satu.

5. Bacalah ilustrasi berikut!

Keberagaman budaya di Indonesia terdiri dari adat istiadat, rumah adat, kesenian daerah, suku, bahasa, dan sebagainya. Yang harus dilakukan untuk menjaga keberagaman diantaranya menyadari bahwa keberagaman adalah hal yang biasa dalam kehidupan, mengembangkan sikap toleransi, mempelajari kebudayaan yang ada di Indonesia, menjadikan keberagaman sebagai kebanggaan, memanfaatkan keberagaman untuk bekerja sama. Keberagaman merupakan kekayaan bangsa Indonesia. Keberagaman bukan menjadi alasan untuk terpecah belah. Persatuan sangat diperlukan dalam pelaksanaan pembangunan nasional. Oleh karena itu, sudah seharusnya kita menjaga keberagaman karena hal ini merupakan kekayaan yang tidak ternilai harganya.

Berilah tanda centang (✓) pada kolom Benar atau Salah berdasarkan ilustrasi di atas!

Pernyataan	Benar	Salah
Keberagaman menjadi kekayaan dan ciri khas suatu daerah, bangsa dan negara		
Keberagaman budaya di Indonesia hanya terdiri atas rumah adat		
Keberagaman bukan menjadi alasan untuk terpecah belah		
Keberagaman harus dihindari dalam kehidupan		

6. Perhatikan iklan berikut!



Berilah tanda (✓) pada kolom benar atau salah sesuai dengan pernyataan berdasarkan gambar di atas!

Pernyataan	Benar	Salah
Kata kunci dari iklan di atas adalah sarapan sehat		
Sasaran iklan ditujukan untuk anak sekolah saja.		
Isi iklan ajakan sarapan sehat setelah jam 9		
Makna gambar, mengenai makanan yang biasanya di makan saat sarapan pagi		

7. Perhatikan gambar berikut!



Salah satu hal yang dapat membuat tubuh tetap sehat dan bugar adalah dengan mengonsumsi buah. Berilah tanda (✓) pada kolom benar atau salah sesuai dengan pernyataan tentang manfaat buah di atas!

Pernyataan	Benar	Salah
Mengonsumsinya dapat mengakibatkan penyakit maag		
Buahnya yang matang dapat mengakibatkan sembelit/susah buang air besar		
Membantu pasien sakit perut untuk menetralkan keasaman lambung		
Daging buah yang lembut dapat melapisi dinding-dinding lambung dan usus sehingga menjadi lapisan anti radang		

8. Perhatikan gambar dan ilustrasi berikut!



gambar di atas merupakan upaya manusia dalam sebuah pembangunan sosial budaya. Bahasa Indonesia merupakan contoh upaya manusia dalam sebuah pembangunan sosial budaya. Kegiatan seni yang bertujuan melestarikan budaya nusantara juga merupakan sebuah upaya pembangunan sosial budaya. Contoh lain dari pembangunan sosial budaya adalah dengan semakin terbukanya kesempatan bagi kaum wanita untuk bersekolah dan menuntut ilmu setinggi mungkin.

Berilah tanda centang (✓) pada kolom Benar atau Salah pada pernyataan berikut sesuai dengan gambar dan ilustrasi di atas!

Pernyataan	Benar	Salah
Dengan dilakukannya kedua kegiatan pada gambar budaya nusantara akan tidak dikenal oleh generasi ke generasi		
Kedua gambar tersebut adalah usaha atau upaya manusia dalam pembangunan social budaya		
Kegiatan yang dilakukan anak-anak pada gambar di atas adalah bermain dan mewarnai		
Kedua gambar tersebut bertujuan melestarikan budaya nusantara		

C. MENJODOHKAN

9. Perhatikan gambar berikut!



GAMBAR A



GAMBAR B



GAMBAR C



GAMBAR D

Berdasarkan gambar diatas, pasangkan antara gambar dengan macam-macam keberagaman di indonesia yang sesuai dengan menarik garis!

Gambar	
A	●
B	●
C	●
D	●

Macam-macam keberagaman di Indonesia	
●	Keragaman pakaian daerah
●	Keberagaman senjata tradisional
●	Keberagaman tarian daerah
●	Keberagaman alat music tradisional

10. Perhatikan iklan berikut!



Iklan A



Iklan B



Iklan C



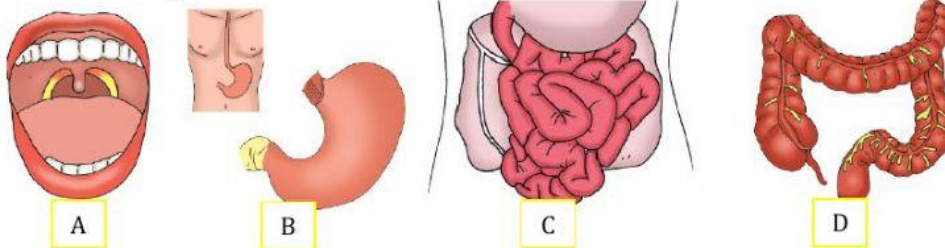
Iklan D

Berdasarkan gambar di atas, pasangkan antara gambar dengan isi iklan yang sesuai dengan menarik garis penghubung yang tepat!

Gambar	
Iklan A	●
Iklan B	●
Iklan C	●
Iklan D	●

Isi iklan	
●	Tentang kandungan singkong
●	Tentang pentingnya air bagi kita
●	Tentang menerima perbedaan
●	Tentang makanan sehat dan bergizi

11. Perhatikan gambar berikut!



Berdasarkan gambar di atas, pasangkan antara gambar dengan fungsi dan cara kerja organ pencernaan dengan menggunakan garis!

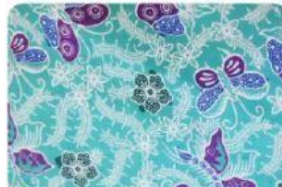
Gambar Alat pencernaan	
A	●
B	●
C	●
D	●

Fungsi dan cara kerja	
●	Menyerap air dari sisa makanan. Terjadi juga pembusukan makanan berupa feses dengan bantuan <i>Escherichia coli</i>
●	Di dalamnya terdapat gigi, lidah dan air liur, untuk menghancurkan makanan sehingga ukurannya cukup lebih kecil untuk dapat ditelan ke dalam perut.
●	Terletak di sebelah kiri atas rongga perut, berbentuk seperti kantong, pemecah makanan menjadi molekul yang lebih halus, Sebagai penghasil pepsinogen dan Terjadi pencernaan secara mekanis dan kimiawi
●	Sebagai tempat penyerapan sari-sari makanan yang terdiri dari 3 bagian yaitu usus dua belas jari, usus kosong, dan usus penyerapan.

12. Perhatikan gambar berikut!



GAMBAR A



GAMBAR B



GAMBAR C



GAMBAR D

Berdasarkan gambar di atas, pasangan antara gambar dengan nama motif batik berikut!

Gambar	
A	●
B	●
C	●
D	●

nama motif batik	
●	Cirebon mega mendung
●	Solo parang kusuno
●	Yogyakarta ceplok
●	Salah satu motif batik pekalongan

D. ISIAN SINGKAT

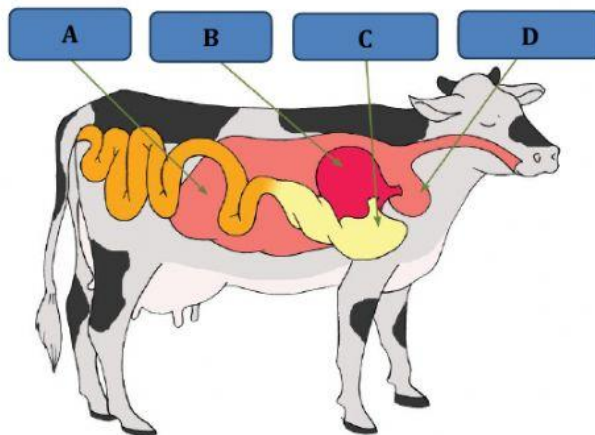
Isilah titik-titik berikut ini dengan jawaban yang tepat!

13. Perhatikan gambar berikut!



Arti dari bagian burung garuda yang ditunjukkan oleh tanda panah di atas adalah

14. Perhatikan gambar berikut!



Berdasarkan gambar di atas, **Rumen** ditunjukkan pada huruf.....

15. Perhatikan contoh interaksi berikut!

1. Seorang nelayan menangkap ikan di laut
2. Seorang petani menanam padi
3. Seorang anak merawat tanaman

Berdasarkan contoh di atas, manusia juga berinteraksi dengan.....

16. Perhatikan gambar berikut!



Tari pada gambar di atas menggunakan properti rangkaian bunga, tari tersebut berasal dari daerah.....

E. URAIAN

Jawablah pertanyaan berikut dengan tepat!

17. Bacalah percakapan berikut!

Dayu : "Semalam aku melihat iklan tentang obat sakit perut baru untuk anak-anak di televisi, lho!"

Udin : "Wah, sudah ada iklan baru lagi? Sepertinya itu produk baru, ya?"

Dayu : "Betul! Iklan itu menarik karena iklannya dibuat seperti film."

Lani : "Ternyata media iklan itu bermacam-macam, ya! Kalau kamu, suka iklan di media cetak seperti di koran dan majalah atau media elektronik?"

Udin : "Kalau aku lebih suka media elektronik karena gambarnya dapat bergerak dan ada suaranya. Jadi lebih seru!"

Lani : "Kalau aku suka kedua-duanya. Sekalipun iklan di media elektronik memang terdengar lebih seru, tetapi iklan di media cetak juga banyak yang bagus. Gambar-gambar yang dipergunakan memiliki warna yang cerah dan kalimat iklannya juga bagus-bagus."

Berdasarkan percakapan di atas, tuliskan 2 kelebihan iklan media cetak dan 2 kelebihan iklan media elektronik!

Jawaban :

Iklan media cetak :

.....

Iklan media elektronik :

.....

18. Perhatikan gambar dan ilustrasi berikut!



Berbagai penyakit dan gangguan (kelainan) yang dapat menyerang alat pencernaan. Penyakit dan gangguan dapat disebabkan karena mengonsumsi makanan yang tidak sehat dan masuknya bakteri atau virus ke dalam tubuh.

Berdasarkan gambar dan ilustrasi di atas, tuliskan 3 penyakit atau gangguan (kelainan) yang dapat menyerang alat pencernaan!

Jawaban :

.....

.....

.....

.....

19. Perhatikan ilustrasi berikut!

Dalam pemenuhan kebutuhan, manusia tidak dapat bekerja sendiri. Contohnya dalam budidaya padi, manusia melakukan dua bentuk interaksi yaitu interaksi sosial dan interaksi dengan lingkungan hidup.

Berdasarkan ilustrasi di atas, tuliskan masing-masing dua contoh bentuk interaksi tersebut!

Jawaban :

.....

.....

.....

.....

.....

20. Perhatikan gambar berikut!



Tuliskan 3 teknik pembuatan batik berdasarkan urutan gambar di atas!

Jawaban :

.....

.....

.....

.....

*** SELAMAT BEKERJA & SEMANGAT BEKERJA***