

LEMBAR KERJA PESERTA DIDIK

MATEMATIKA-KELAS V

NAMA :

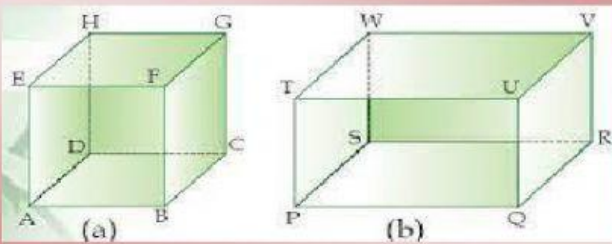
Tujuan: Memahami Sifat dan Jaring-jaring Bangun Ruang (Kubus dan Balok)

Petunjuk : Perhatikan Instruksi yang dijelaskan Oleh Guru

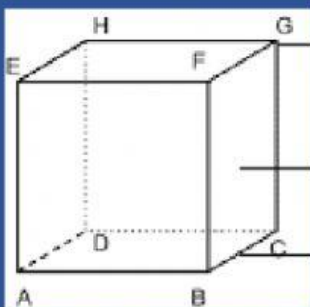


Ayo mengamati !

Amatilah gambar/video kubus dan balok di bawah ini!
Terdapat sisi, titik sudut dan rusuk pada bangun ruang kubus dan balok.



Tentukan Bagian Kubus di bawah ini !



Sambungkan ke kanan !

- ADA SISI →
- ADA RUSUK →
- ADA TITIK SUDUT →

← ABFE, BCGF, CDHG, ADHE, ABCDE, EFGH

← AB, FE, AE, BF, FG, BC, GC, GH, CD, HD, EH, AD

← A, B, C, D, F, G, H, E

Susunlah kotak di bawah menjadi jaring kubus !

ATAP

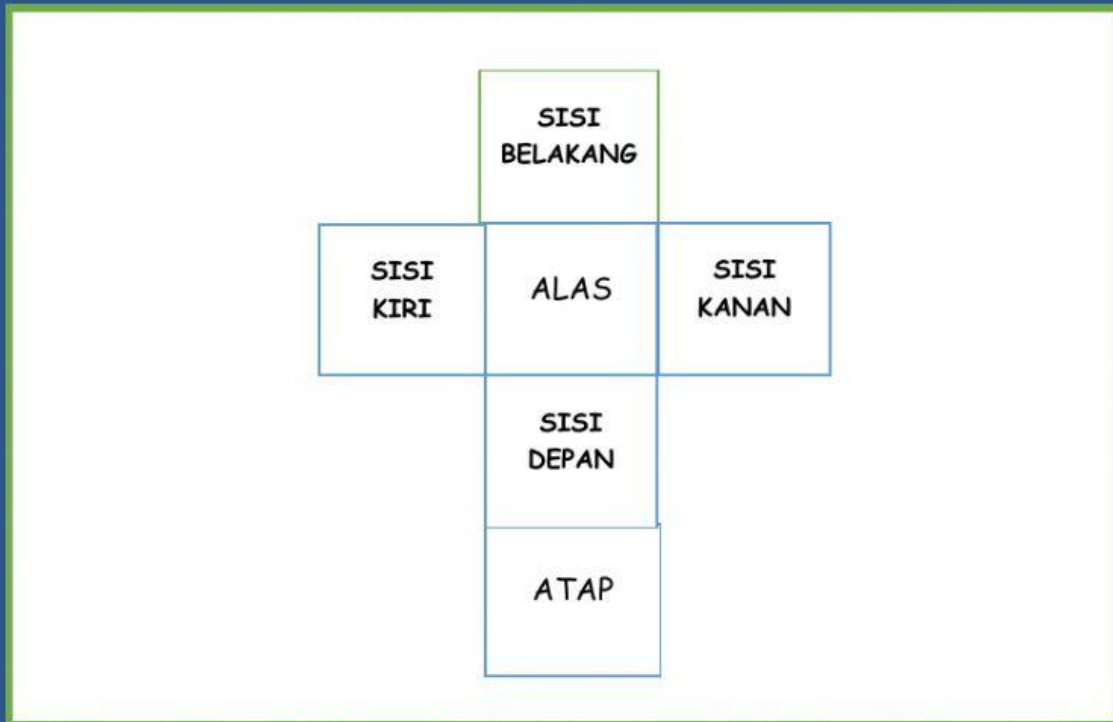
ALAS

SISI
DEPAN

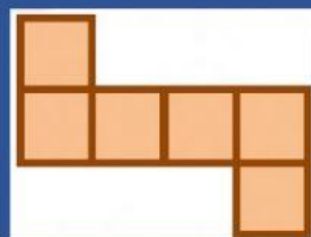
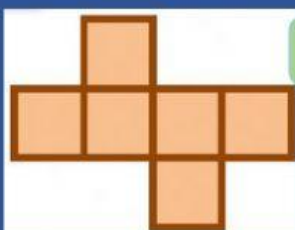
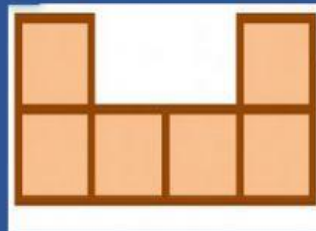
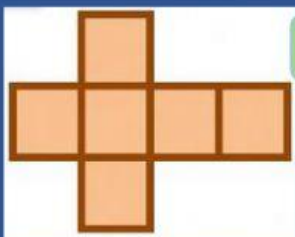
SISI
KIRI

SISI
KANAN

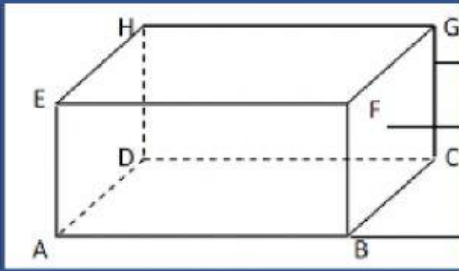
SISI
BELAKANG



Tentukan jaring kubus / bukan jaring kubus !



Tentukan Bagian Balok di bawah ini !





Sambungkan ke kanan !




ABFE, BCGF, CDHG, ADHE, ABCDE, EFGH

- ADA SISI →
- ADA RUSUK →
- ADA TITIK SUDUT →

A, B, C, D, F, G, H, E

AB, FE, AE, BF, FG, BC, GC, GH, CD, HD, EH, AD

Tentukan jaring balok / bukan jaring balok !



JIKA SELESAI
KLIK "FINISH"

