



ROYAL WELLS PRIMARY SCHOOL
SOAL LATIHAN PENILAIAN AKHIR SEMESTER GANJIL
SENI BUDAYA DAN PRAKARYA KELAS 5
TAHUN AJARAN 2022 – 2023

Nama: _____

I. PILIHAN GANDA

Pilihlah jawaban yang paling benar!

1. Fungsi gambar cerita dalam sebuah buku cerita adalah
 - A. membantu pembaca memahami cerita
 - B. sebagai hiasan pada buku
 - C. supaya buku terlihat mahal
 - D. supaya buku terlihat tebal
2. Langkah awal sebelum membuat gambar cerita tentang kehidupan sehari-hari adalah
 - A. mewarnai gambar
 - B. membuat gambar sketsa
 - C. berdiskusi dengan teman
 - D. mengamati lingkungan sekitar
3. Berikut yang **bukan** objek ilustrasi di tengah sawah adalah
 - A. katak
 - B. serangga
 - C. padi
 - D. meja belajar
4. Objek manusia dalam sebuah gambar cerita menggambarkan ... cerita.
 - A. tokoh
 - B. pemandangan
 - C. suasana
 - D. peristiwa

Bacalah dengan saksama cerita berikut untuk soal nomor 5 - 7!

Pada hari Minggu, Lani pergi berlibur ke pantai bersama Tante Tina. Matahari bersinar cerah. Banyak pohon kelapa di pantai. Kepiting-kepiting kecil terlihat bermain di pasir. Lani bermain mengejar ombak bersama Tante Tina. Lani merasa sangat senang karena diajak liburan ke pantai oleh Tante Tina.

5. Suasana yang sesuai untuk membuat gambar cerita dari cerita tersebut adalah pemandangan....
 - A. pegunungan
 - B. pantai
 - C. pedesaan
 - D. perkotaan

6. Objek gambar yang diperlukan untuk membuat ambar cerita berdasarkan cerita tersebut adalah

- A. Lani, Tante Tina, pohon kelapa, kepiting dan matahari
- B. Lani, Tante Tina, Gedung beritngkat, mobil, dan matahari
- C. Lani, Tante Tina, pohon cemara, burung, dan perbukitan
- D. Lani, Tante Tina, padi, gubuk, phon pisang, dan burung

7. Berdasarkan cerita tersebut, ekspresi yang tepat untuk menggambarkan Lani, yaitu

- A. marah
- B. senang
- C. sedih
- D. takut

8. Bagian terkecil dari sebuah lagu adalah

- A. notasi
- B. nada
- C. syair
- D. irama

9. Nada merupakan bunyi yang

- A. bersahutan
- B. beraturan
- C. berirama
- D. berulang

10. Setiap nada memiliki ... tertentu.

- A. karakter
- B. tempo
- C. tenaga
- D. getaran

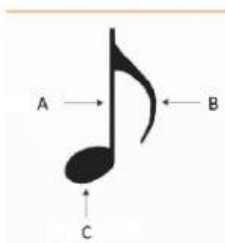
11. Pada notasi angka, simbol angka 0 memiliki makna

- A. bergema
- B. berhenti
- C. berganti
- D. selesai

12. Notasi angka lebih cocok untuk belajar

- A. music
- B. vokal
- C. syair
- D. nada

13. Perhatikan gambar berikut!




Bendera ditunjukkan oleh huruf

- A. B
- B. C
- C. A
- D. A dan B

14. Nilai $\frac{1}{4}$ pada notasi balok memiliki ... ketukan.

- A. 1
- B. 2
- C. 3
- D. 4


15. Tangga nada adalah urutan nada yang disusun secara
- A. beraturan
B. berjenjang
C. bertahap
D. berlapis
16. Jarak satu dan setengah dimiliki oleh tangga nada
- A. pentatonic
B. diatonic
C. melodis
D. simbolis
17. Memiliki jarak 1 - 1 - $\frac{1}{2}$ - 1 - 1- 1- $\frac{1}{2}$ adalah tangga nada diatonic
- A. mayor
B. pentatonic
C. sopran
D. minor
18. Susunan letak penari di atas panggung disebut pola
- A. tari
B. rantai
C. komposisi
D. gerak
19. Pola rantai menjadikan tarian terlihat lebih
- A. bermakna dan indah
B. dinamis dan lincah
C. kompak dan romantis
D. indah dan beragam
20. Pola rantai harus disesuaikan dengan
- A. durasi
B. iringan
C. panggung
D. property
21. Perhatikan gambar berikut!



Gambar di samping menunjukkan pola rantai

- A. bebas
B. berjajar
C. berselang
D. berpasangan


22. Perhatikan gambar berikut!



Gambar di samping menunjukkan pola rantai

- A. bebas
B. berjajar
C. berselang
D. berpasangan

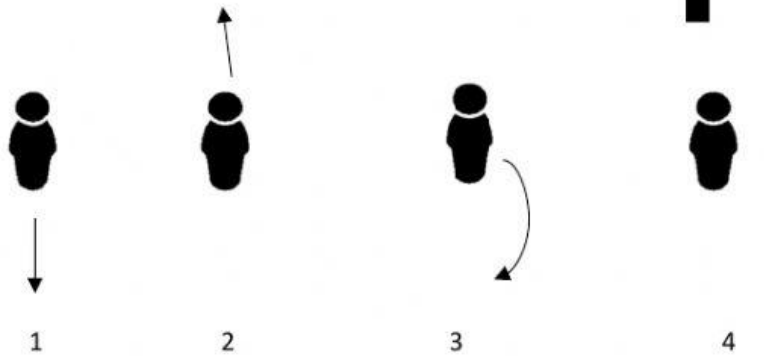
23. Perhatikan gambar berikut!



Gambar di samping menunjukkan pola lantai

- A. bebas
- B. berjajar
- C. berselang
- D. berpasangan

24. Perhatikan gambar di bawah ini!



Gerak berpindah tempat maju dalam tari ditunjukkan oleh gambar nomor

- A. 1
- B. 2
- C. 3
- D. 4

25. Pola lantai bebas cenderung dimiliki oleh jenis tari

- A. tunggal
- B. massal
- C. berkelompok
- D. berpasangan