

**PENILAIAN AKHIR SEMESTER (PAS)**  
TAHUN PELAJARAN 2022-2023

# **SD/MI**

**TEMA 1**  
**(INDAHNYA KEBERSAMAAN)**

KELAS : IV (EMPAT)

NAMA : \_\_\_\_\_



**KEMENTERIAN PENDIDIKAN DAN KEBUDAYAAN**

### A. PILIHAN GANDA

**Berilah tanda silang (X) pada untuk menjawab pertanyaan nomor 1 dan 2 !**

**Bacalah teks berikut !**

Kerja sama merupakan usaha yang dilakukan oleh beberapa orang untuk mencapai tujuan bersama. Kerja sama dalam keberagaman merupakan sikap yang harus dikembangkan agar dapat memupuk persatuan dan kesatuan. Jika setiap dari kita bekerja sama dengan baik, maka kebersamaan dalam keberagaman akan terus terjaga. Masyarakat Indonesia sangat terkenal dengan kebiasaannya bekerja sama. Ronda , kerja bakti, gotong royong termasuk contoh kerja sama yang biasa dilakukan dalam masyarakat.

1. Berdasarkan teks, manfaat mengembangkan sikap kerja sama dalam keberagaman adalah . . .
  - a. Dapat memudahkan pekerjaan
  - b. Dapat menciptakan kerukunan
  - c. Dapat menciptakan sikap saling menghormati
  - d. Dapat memupuk persatuan dan kesatuan


**Bacalah teks berikut !**

Pawai Budaya sangat menarik bagi warga Kampung Babakan. Pawai ini selalu menampilkan keragaman budaya Indonesia. Udin dan teman-teman tidak pernah bosan menanti rombongan pawai lewat. Tahun ini mereka datang ke alun-alun untuk melihat pawai tersebut. Kakek Udin pun terlihat sabar menanti. Terdengar suara gendang yang menandakan rombongan pawai semakin dekat.

2. Berdasarkan teks, gagasan pokok dari bacaan di atas adalah . . .
  - a. Terdengar suara gendang yang menandakan rombongan pawai semakin dekat.
  - b. Kakek Udin pun terlihat sabar menanti.
  - c. Pawai Budaya sangat menarik bagi warga Kampung Babakan.
  - d. Pawai ini selalu menampilkan keragaman budaya Indonesia.

Kita ketahui bahwa gerakan dasar tarian bungong jeumpa itu berasal dari Aceh , setiap tarian yang akan dipentaskan menggunakan pola lantai tertentu . Pola lantai adalah formasi yang dilakukan penari dengan perpindahan, pergerakan, atau pergeseran posisi saat menari. Berikut ini fungsi pola lantai dalam tari:

1. Menciptakan kekompakan antar penari
2. Memperindah tarian
3. Membentuk komposisi dalam pertunjukan.



1

2

3

4

Perhatikan tarian bungong jeumpa di atas.

3. Berdasarkan Gambar di atas tentukan formasi gerakan berikut dengan bentuk formasinya tersebut !

- a. 1 Bentuk Horizontal
- b. 2 Bentuk Lingkaran
- c. 3 Bentuk V
- d. 4. Bentuk Zig

1

3



2

4. Berdasarkan gambar diatas, tentukanlah Bagian – bagian telinga tersebut!
- 1.Telinga Luar
  - 2.Telinga tengah
  3. Telinga Dalam
  4. Semuanya Benar
  - e.

**Bacalah teks berikut!**

Mayoritas penduduk Indonesia memeluk agama Islam. Saat ini ada lebih dari 207 juta muslim di Indonesia. Kitab suci agama Islam adalah Al-Qur'an. Agama Islam Prostan adalah sebuah denominasi dalam agama Kristen, yang muncul setelah protes Marthin Luther pada 1517.

5. Berdasarkan teks, mayoritas agama yang dianut oleh masyarakat Indonesia yaitu...
- a. Islam
  - b. Hindu
  - c. Budha
  - d. Kristen

## B. PILIHAN GANDA KOMPLEKS

**Bacalah teks berikut !**

Segala macam bentuk bunyi berasal dari benda yang bergetar. Getaran dari suatu benda akan mengakibatkan udara di sekitarnya bergetar. Getaran tersebut menimbulkan gelombang bunyi di udara. Benda-benda yang bergetar dan menghasilkan bunyi disebut sumber bunyi. Bunyi dapat merambat melalui benda padat, cair, dan gas. Akan tetapi, bunyi tidak dapat merambat pada ruang hampa.

6. Berikut adalah sifat - sifat bunyi. Berilah tanda centang( ✓) pada pernyataan yang benar berikut !
- ☐ Bunyi dapat merambat melalui ruang hampa.
- ☐ Bunyi dapat merambat melalui benda padat
- ☐ Bunyi dapat merambat melalui benda gas
- ☐ Bunyi dapat merambat melalui benda cair

				
<b>Sega jambang</b> (nasi jambang dalam bahasa Indonesia) adalah makanan khas dari Cirebon, Jawa Barat. Nama jambang berasal dari nama daerah di sebelah barat Kota Cirebon.	<b>Nasi pecel</b> adalah sarapan kesukaan masyarakat Madiun, Jawa Timur.	<b>Lontong sayur</b> sangat mudah kamu temui di Jakarta dan Jawa Barat sebagai menu sarapan favorit.	<b>Nasi krawu</b> adalah makanan khas Kota Gresik yang terbuat dari campuran nasi dan daging sapi dengan kadar minyak yang cukup tinggi.	<b>Nasi gudeg</b> , atau dalam bahasa Jawa disebut sego gudeg, adalah makanan favorit di Yogyakarta.

7. Berikut adalah beberapa makanan khas daerah. Berilah tanda centang( ✓) pada kolom BENAR atau SALAH pada pernyataan berikut !

Pernyataan	Benar	Salah
Nasi gudeg adalah makanan favorit di Yogyakarta		
Nasi pecel adalah sarapan kesukaan masyarakat Madiun		
Nasi krawu adalah makanan khas Kota Cirebon		
Lontong sayur sangat mudah kamu temui di Jakarta		



Pagi itu, semua warga terlihat sangat bersemangat membersihkan selokan. Pak Sammy dan Pak Udin sibuk mengambil sampah yang ada di dalam selokan. Pak Made dan Pak Udin memastikan saluran selokan lancar. Pak Nur mengambil sampah-sampah dan meletakkannya di aerobak sampah.

8. Berilah tanda (✓) manfaat gotong royong sesuai gambar di atas!

NO	PERNYATAAN	BENAR	SALAH
1	Meringankan pekerjaan dalam kegiatan tersebut		
2	Menjalin hubungan kekeluargaan terhadap sesamanya		
3	Menjalin persatuan dan kesatuan dalam kehidupan sehari-hari		
4	Tidak mencerminkan sikap persatuan dan kesatuan		

**Bacalah teks berikut!**

#### Suku Minang

Suku minang adalah kelompok etnis yang terdapat di provinsi Sumatra Barat. Suku minang sering disebut sebagai orang padang atau urang awak. Bahasa daerah suku minang adalah bahasa minang. Orang minang gemar berdandan dan merantau ke daerah lain. Legenda suku minang yang sangat terkenal adalah "Maling Kundang".

9. Berilah tanda (✓) yang termasuk gagasan pendukung pada bacaan di atas !

NO	PERNYATAAN	BENAR	SALAH
1	Suku minang sering disebut sebagai orang padang atau urang awak.		
2	Bahasa daerah suku minang adalah bahasa minang.		
3	Legenda suku minang yang sangat terkenal adalah Malik Kundang.		
4	Suku minang adalah kelompok etnis yang tidak terdapat di provinsi Sumatra Barat.		



1 2 3 4

10. Berilah tanda (✓) sesuai gambar dan gerakan Tersbut !

Gambar	Benar	Salah
Menghadap serong ke kanan. Kedua jari rapat ditarik ke atas. Kaki kanan ke depan.		
Menghadap serong ke kiri. Kedua jari rapat ditarik ke atas. Kaki kiri ke depan.		
Tangan ditarik ke bawah, kaki kanan mundur.		
Bergantian kanan kiri sebanyak dua kali dua kali .		





#### C. MENJODOHKAN

**Bacalah teks berikut !**

Keberagaman Indonesia tercermin pada rumah adat. Kita harus mensyukuri keberagaman dan keindahan rumah adat tersebut. Berikut adalah rumah adat dari berbagai provinsi di Indonesia diantaranya Rumah Adat Tongkonan (Rumah Adat Provinsi Sulawesi Selatan/ Sulsel/Suku Toraja), Rumah Gadang (Rumah Adat Sumatera Barat/Sumbar), Rumah Aceh (Rumah Adat Nanggroe Aceh Darussalam), Rumah Balai Batak Toba (Rumah Adat Sumatera Utara/ Sumut), Baileo (Rumah Adat Provinsi Maluku).



11. Berdasarkan teks, pasangkanlah gambar rumah adat dengan nama rumah adat berikut !





Gambar	A	B	Nama rumah adat
	<input type="checkbox"/>	<input type="checkbox"/>	Rumah adat tongkonan
	<input type="checkbox"/>	<input type="checkbox"/>	Rumah gadang
	<input type="checkbox"/>	<input type="checkbox"/>	Rumah Aceh
	<input type="checkbox"/>	<input type="checkbox"/>	Baileo

Bacalah teks berikut !

Sifat bunyi serta perambatannya

Edo dan temannya mendapat tugas untuk melakukan percobaan tentang bunyi, sepulang sekolah mereka berkumpul dirumahnya setiap orang sudah menyiapkan peralatan yang dibutuhkan. Edo membawa beberapa kaleng yang sudah dilubangi, Udin membawa benang kasur, serta teman lainnya membawa ember, air corong dan batu. Mereka berkumpul untuk melakukan percobaan tersebut.

12. Pasangkanlah antara gambar dengan sifat bunyi serta perambatannya berikut ini !





Gambar	A	B	Sifat bunyi dan perambatannya
	<input type="checkbox"/>	<input type="checkbox"/>	Bunyi merambat melalui cair
	<input type="checkbox"/>	<input type="checkbox"/>	Bunyi merambat melalui Gas
	<input type="checkbox"/>	<input type="checkbox"/>	Bunyi merambat melalui padat
	<input type="checkbox"/>	<input type="checkbox"/>	Bunyi tidak dapat merambat melalui ruang udara hampa

Bacalah teks berikut !

Dalam suasana keragaman beragama itu, setiap warga negara Indonesia dijamin haknya untuk memeluk keyakinan atau kepercayaan masing-masing.

Di Indonesia terdapat enam agama yang diakui negara. Keenam agama/kepercayaan yaitu Islam, Katolik, Kristen, Hindu, Buddha, dan Konghucu. Dan setiap agama memiliki tempat ibadah masing-masing yang berbeda seperti pura, mesjid, gereja, klenteng, dan vihara.

13. Pasangkanlah gambar tempat ibadah dengan nama agamanya yang sesuai pada kolom di bawah ini!

Gambar	A	B	Nama
	<input type="checkbox"/>	<input type="checkbox"/>	Islam
	<input type="checkbox"/>	<input type="checkbox"/>	Keristen
	<input type="checkbox"/>	<input type="checkbox"/>	Hindu
	<input type="checkbox"/>	<input type="checkbox"/>	Buddha

#### D. ISIAN

Bacalah teks berikut!

##### Suku Minang

Suku Minang mempunyai rumah adat yang sangat khas yang disebut rumah gadang. Rumah gadang ini terbuat dari kayu dan mempunyai bentuk dasar seperti balok. Lengkung atap rumahnya sangat tajam seperti tanduk kebau. Sedangkan lengkung badan rumah landau seperti badan kapal. Atap rumah terbuat dari ijuk. Bentuk atap rumah yang melengkung dan runcing keatas itu disebut gonjong. Karena atapnya berbentuk gonjong, maka disebut rumah bagonjong.

14. Suku minang mempunyai rumah adat yang sangat khas yang disebut...

Bacalah teks berikut !

Keberagaman budaya Indonesia juga terlihat dari tarian daerah. Seperti pada tarian Bungong Jeumpa. Tari Bungong Jeumpa berasal dari Aceh, yang berarti Bunga Cempaka. Tarian ini dibagi ke dalam dua gerakan, yaitu gerakan saat berdiri dan gerakan saat duduk. Formasi gerakan tarian Bungong Jeumpa ada yang berbentuk horizontal, berbentuk V, berbentuk lingkaran dan berbentuk zigzag.

15. Berdasarkan teks Tari Bungong Jeumpa berasal dari Aceh yang berarti . . . .

Bacalah teks berikut !

##### Penyerapan Bunyi

Bunyi juga dapat diserap. Benda-benda yang dapat menyerap bunyi adalah benda yang permukaannya lunak. Benda yang demikian disebut peredam bunyi, misalnya karpet, goni, kertas, kain, busa, dan wol. Benda-benda tersebut dapat digunakan untuk mencegah terjadinya gaung atau kerdam. Dinding dan langit-langit gedung pertemuan, studio rekaman, dan gedung bioskop dilapisi dengan bahan-bahan tersebut supaya tidak terjadi gaung atau kerdam.

16. Berdasarkan teks, salah satu benda yang dapat menyerap bunyi adalah . . . .

Sebagai anak Indonesia aku bangga terhadap keberagaman yang ada. Berikut adalah contoh alat music yang dimiliki oleh berbagai suku di Indonesia. Cara memainkannya berbeda-beda. Kecapi berasal dari Jawa Barat, saluang berasal dari Sumatra Barat, kendang berasal dari Jawa Barat dan tifa dari Papua dimainkan dengan cara dipukul.

17. Alat music yang dimiliki oleh berbagai suku di Indonesia berbeda-beda, kecapi berasal daerah Jawa Barat, dan saluang berasal dari daerah...

E. URAIAN

**Bacalah teks berikut !**

Kita hidup penuh dengan keberagaman. Di dalam keluarga, hampir setiap anggotanya berbeda. Di sekolah, kamu mempunyai teman-teman yang berbeda. Di masyarakat, kamu mempunyai tetangga yang berbeda-beda. Perbedaan yang ada di keluarga, sekolah, dan masyarakat akan menjadi indah apabila dilandasi oleh persatuan dan kesatuan. Persatuan tidak mementingkan kepentingan diri sendiri atau kelompok. tetapi lebih mengutamakan kepentingan umum.

18. Berdasarkan teks, tuliskan 2 (dua) contoh sikap yang menunjukkan persatuan dan kesatuan di lingkungan sekolah !

**Bacalah teks berikut !**

Suku Minang adalah kelompok etnis yang terdapat di Provinsi Sumatra Barat. Suku Minang sering disebut sebagai orang Padang atau Urang Awak. Bahasa daerah suku Minang adalah bahasa Minang. Orang Minang gemar berdagang dan merantau ke daerah lain. Legenda Suku Minang yang sangat terkenal adalah “Malin Kundang”.

Suku Minang mempunyai rumah adat yang sangat khas yang disebut Rumah Gadang. Rumah Gadang ini terbuat dari kayu dan mempunyai bentuk dasar seperti balok. Lengkung atap rumahnya sangat tajam seperti tanduk kerbau, sedangkan lengkung badan rumah landai seperti badan kapal. Atap rumah terbuat dari ijuk. Bentuk atap rumah yang melengkung dan runcing ke atas itu disebut gonjong. Karena atapnya berbentuk gonjong, maka disebut rumah Bagonjong.

19. Tuliskan gagasan pendukung paragraf kedua pada teks di atas !

Di Indonesia beragam tarian yang ada di daerah masing-masing. hal itu menggambarkan ragam ciri khas baik dari segi sosial masyarakat, suku, agama, peribadatan, maupun ekonomi. Tari yang berasal dari Sulawesi Selatan menurutnya berbeda dari daerah lain. Di Sulawesi ada 14 tari dan itu asalnya dari Sulawesi Selatan.

20. Tuliskan 4 tarian yang asal Daerahnya dari Sulawesi selatan !

**SELAMAT BEKERJA**