



#### 4. SBdP

Karya tiga dimensi yaitu, karya seni rupa yang mempunyai panjang, lebar, dan tinggi. Misalnya benda hias dan benda yang mana di gunakan untu memenuhi kebutuhan sehari-hari.

Berikut yang bukan contoh benda 3 dimensi adalah .....

- a. Lukisan                      b. kubus                      c. Lemari                      d. gelas

**Berilah tanda ceklis (✓) jika benar, dan silang (X) jika salah pada pernyataan dibawah ini!**

#### 5. PPKn.

Rantai emas merupakan lambang dari sila kedua yang berbunyi "Kemanusiaan yang adil dan beradab". Simbol ini terletak di bagian kanan bawah.

Mata rantai dalam simbol tersebut berbentuk persegi dan lingkaran yang saling mengaitkan.

Mata rantai berbentuk persegi empat merupakan lambang laki-laki, sedangkan mata rantai lingkaran menggambarkan perempuan.

Kemudian mata rantai yang saling mengaitkan melambangkan hubungan timbal balik antarumat manusia, baik laki-laki maupun perempuan.

Berikut beberapa makna Pancasila sila Kemanusiaan yang adil dan beradab.

Pernyataan	Benar/Salah
Setiap manusia setara dan sejajar	
Beradab dalam rasa, pikiran, dan tindakan	
Anti penjajahan.	
Mengutamakan kepentingan kebenaran kelompok sendiri	

#### 6. Bahasa Indonesia

Di tengah hutan, hiduplah seekor semut yang sangat rajin. Setiap hari semutitu selalu bekerja mengumpulkan makanan dan menyimpannya di dalamlumbung. Berbeda dengan seekor belalang yang malas dan tidak mau mencari dan mengumpulkan makanan untuk persiapan musim dingin.

Akhirnya musim dingin tiba. Sang Semut yang rajin itu duduk dengannyaman di dalam rumahnya yang hangat. Ia menikmati makanannya yangberlimpah. Belalang termenung sedih di rumahnya karena tidak memilikimakanan sedikit pun. Saat Belalang hampir mati kelaparan, Sang Semutdatang dan memberinya makanan. Sejak saat itu, Sang Belalang rajinbekerja mengumpulkan makanan seperti Sang Semut.

Berikut pesan yang dapat diambil dari dalam cerita di atas adalah :

Pernyataan	Benar/ Salah
Kita harus rajin dan tidak boleh malas	
Kita harus selalu mendengar nasehat baik dari teman	
Bila tidak memiliki makanan kita boleh meminta	
Kita harus saling memberi	

7. **IPA**

Hutan bakau atau disebut juga hutan mangrove adalah hutan yang tumbuh di air payau, dan dipengaruhi oleh pasang-surut air laut. Hutan ini tumbuh khususnya di tempat-tempat di mana terjadi pelumpuran dan akumulasi bahan organik.

Berikut beberapa manfaat dari tumbuhan bakau :

<b>Pernyataan</b>	<b>Benar/Salah</b>
Menjaga agar garis pantai tetap stabil dan tidak terkikis oleh terpaan ombak	
Menahan rembesan air laut ke darat	
Menambah polutan di air laut.	
Menciptakan udara pesisir yang bersih dan segar	

8. **IPS**

Jenis pekerjaan berdasarkan tempat geografis yaitu: pantai, dataran rendah, dataran tinggi.

Berikut beberapa pekerjaan sesuai letak geografis :

<b>Pernyataan</b>	<b>Benar/ Salah</b>
Pekerjaan masyarakat diwilayah pedesaan yang terbanyak adalah petani	
Pekerjaan masyarakat diwilayah perkotaan adalah pedagang	
Pekerjaan masyarakat diwilayah perkotaan adalah pegawai	
Pekerjaan masyarakat diwilayah pesisir atau pantai adalah nelayan	

Pasangkanlah kedua pernyataan dibawah ini dengan pasangan yang tepat!

9. PPKn



Dari gambar burung garuda diatas berikut Bunyi sila Pancasila beserta simbolnya;

Bunyi			Simbol
Ketuhanan Yang Maha Esa	<input type="radio"/>	<input type="radio"/>	
Kemanusiaan Yang Adil dan Beradab	<input type="radio"/>	<input type="radio"/>	
Persatuan Indonesia	<input type="radio"/>	<input type="radio"/>	
Kerakyatan yan dipimpin oleh hikmat kebijaksanaan dalam permusyawaratan perwakilan	<input type="radio"/>	<input type="radio"/>	
Keadilan sosial bagi seluruh rakyat Indonesia	<input type="radio"/>	<input type="radio"/>	

10. Bahasa Indonesia

Di tengah hutan, hiduplah seekor semut yang sangat rajin. Setiap hari semut itu selalu bekerja mengumpulkan makanan dan menyimpannya di dalam lumbung. Berbeda dengan seekor belalang yang malas dan tidak mau mencari dan mengumpulkan makanan untuk persiapan musim dingin.





Akhirnya musim dingin tiba. Sang Semut yang rajin itu duduk dengan nyaman di dalam rumahnya yang hangat. Ia menikmati makanannya yang berlimpah. Belalang termenung sedih di rumahnya karena tidak memiliki makanan sedikit pun. Saat Belalang hampir mati kelaparan, Sang Semut datang dan memberinya makanan. Sejak saat itu, Sang Belalang rajin bekerja mengumpulkan makanan seperti Sang Semut. Berdasarkan cerita tersebut, unsur-unsur cerita yang ada sebagai berikut.

Jenis unsur cerita			Keterangan
Judul	<input type="radio"/>	<input type="radio"/>	Di tengah hutan
Tokoh	<input type="radio"/>	<input type="radio"/>	Semut yang rajin dan belalang yang malas
Tempat	<input type="radio"/>	<input type="radio"/>	Seekor semut dan seekor belalang
Sifat tokoh	<input type="radio"/>	<input type="radio"/>	Semut dan Belalang

### 11. IPA





Barang-barang yang dihasilkan dari setiap pekerjaan sangat beragam. Banyak diantaranya yang memanfaatkan sumber daya alam di Indonesia. Sumber daya alam merupakan kekayaan alam yang diciptakan oleh Tuhan untuk kesejahteraan manusia.

Berikut jenis sumber daya alam yang digunakan dalam setiap pekerjaan:

Pekerjaan	Jenis Sumber Daya Alam Yang Digunakan
 <input type="radio"/>	<input type="radio"/> Hewan
 <input type="radio"/>	<input type="radio"/> Batuan
 <input type="radio"/>	<input type="radio"/> Hutan
 <input type="radio"/>	<input type="radio"/> Laut

### 12. IPS

Ada jenis pekerjaan berdasarkan letak geografisnya, seperti pegunungan, perkotaan, dan pantai. Berikut Jenis pekerjaan beserta barang yang dapat dihasilkan berdasarkan tempat geografis :

Pekerjaan	Barang yang dihasilkan
 <input type="radio"/>	<input type="radio"/> kerikil
 <input type="radio"/>	<input type="radio"/> Meja
 <input type="radio"/>	<input type="radio"/> Susu
 <input type="radio"/>	<input type="radio"/> Ikan

**Isilah titik-titik dibawah ini dengan jawaban yang benar!**

**13. PPKn**

Sila pertama Pancasila adalah Ketuhanan Yang Maha Esa. Sila ini bermakna :

- 1). Percaya adanya Tuhan sehingga setiap warga negara rela untuk diatur
- 2). Setiap orang dibebaskan memeluk agama masing-masing, maka setiap orang bertanggung jawab untuk taat dengan aturan agamanya
- 3). Semua yang Tuhan berikan kepada kita harus dijaga
- 4). Toleransi antar umat beragama dan sesama umat beragama

Dari makna sila pertama Pancasila di atas, bentuk pengamalan sila pertama Pancasila adalah dengan antar umat beragama kita harus .....

**14. Bhs Indonesia**

“hai mut, kamu sedang apa?” tanya belalang. “Aku sedang mengumpulkan makanan untuk persiapan musim dingin, jawab semut. “Ah, buat apa kamu melakukan itu sekarang, musim dingin masih lama, lebih baik kita ..... dahulu” kata Belalang.

**15. IPA**

Menjaga kelestarian alam adalah kewajiban kita semua. Contoh menjaga kelestarian alam adalah melindungi tanaman bakau di kawasan pesisir pantai, karena tanaman bakau dapat bermanfaat salah satunya untuk .....

**16. SBdP**

Karya tiga dimensi yaitu, karya seni rupa yang mempunyai panjang, lebar, dan tinggi. Misalnya benda hias dan benda yang mana di gunakan untu memenuhi kebutuhan sehari-hari. Ditinjau dari jenis bendanya, ada tiga jenis benda yang dituangkan dalam gambar tiga dimensi, yaitu kubistis, silindris, bebas.

Benda yang berbentuk menyerupai bangunan kubus atau balok disebut .....

**Jawablah pertanyaan dibawah ini dengan jawaban yang benar!**

**17. Bahasa Indonesia**

Jelaskan apa yang seharusnya dilakukan oleh tokoh belalang dalam cerita “Semut dan Belalang”

Jawab :

.....  
.....  
.....  
...

**18. IPA**

Tuliskan 3 manfaat dari pohon bakau!

Jawab :

.....  
.....  
.....  
...

19. IPS



Perhatikan gambar diatas kemudian tuliskan proses pembuatan kain dan baju!

Jawab :

.....  
.....

20. SBdP

Karya tiga dimensi yaitu, karya seni rupa yang mempunyai panjang, lebar, dan tinggi. Misalnya benda hias dan benda yang mana di gunakan untu memenuhi kebutuhan sehari-hari. Ditinjau dari jenis bendanya, ada tiga jenis benda yang dituangkan dalam gambar tiga dimensi, yaitu kubistis, silindris, bebas.

Jelaskan langkah-langkah cara menggambar benda 3 dimensi!

Jawab :

.....  
.....  
.....