

**PENILAIAN AKHIR SEMESTER (PAS)**  
TAHUN PELAJARAN 2022-2023

**SD/MI**

**TEMA 4**  
**(BERBAGAI PEKERJAAN)**

KELAS : IV (EMPAT)

NAMA : \_\_\_\_\_



**DINAS PENDIDIKAN KABUPATEN SINJAI**

**I. PILIHAN GANDA**





Berilah tanda silang ( x ) pada huruf A, B, C atau D di depan jawaban yang benar !

1. Perhatikanlah gambar berikut ini!

*PANCASILA*

1. *Ketuhanan yang Maha Esa*
2. *Kemanusiaan yang adil dan beradab*
3. *Persatuan Indonesia*
4. *Kerakyatan yang di pimpin oleh hikmat kebijaksanaan dalam permusyawaratan/ perwakilan*
5. *Keadialan sosial bagi seluruh rakyat Indonesia*

Simbol dari sila kelima Pancasila adalah ... .

- a. 
- b. 
- c. 
- d. 

2. Bacalah teks berikut!

*Di tengah hutan hiduplah seekor semut yang amat rajin. Setiap hari semut itu bekerja mengumpulkan makanan dan menyimpannya di dalam lumbung. Pada suatu ketika sang semut bertemu dengan seekor belalang yang sedang asyik berjemur sambil bermalas malasan, lalu sang belalang berkata pada sang semut, wahai semut, mengapa kamu sibuk mengumpulkan makanan sedang musim dingin masih lama, lebih baik bermalas malasan dulu*

*Akhirnya musim dingin tiba sang semut yang rajin itu duduk dengan nyaman di dalam rumahnya dan menikmati makanan yang berlimpah, sedang belalang termenung bersedih dirumahnya karna tidak memiliki makanan sedikitpun. Saat belalang hamper mati kelaparan sang semut datang dan memberikannya makanan sejak itu sang belalang rajin bekerja.*

Tokoh pada cerita di atas adalah ... .

- a. kucing dan kambing
- b. semut dan belalang
- c. kancil dan buaya
- d. anjing dan kucing
3. Bacalah teks di bawah ini!

*Setiap tanaman yang kita konsumsi harus dijaga kelestariannya begitu juga tanah yang di tanamnya. Tanaman dan tanah adalah sumber daya alam yang harus kita jaga keberadaannya, penggunaan yang berlebihan akan merugikan kita.*

**TEMA 4 (BERBAGAI PEKERJAAN)**

*Tanaman memberikan manfaat bagi manusia. Apabila tidak berhati-hati dalam pemanfaatannya, tumbuhan akan punah, manusia akan mengalami kesulitan. Oleh sebab itu kita wajib menjaga keberadaannya, dan menanam kembali serta menjaga lingkungan.*

Berdasarkan teks di atas, pentingnya menjaga keseimbangan dan kelestarian sumber daya alam agar ... .

- tidak terjadi kerusakan pada lingkungan
  - persatuan dan kesatuan terjaga
  - tidak merugikan masyarakat
  - udara terasa sejuk
4. Bacalah teks di bawah ini!

*Berdasarkan hasilnya, jenis pekerjaan dibedakan menjadi 2 yaitu, pekerjaan yang menghasilkan barang dan pekerjaan yang menghasilkan jasa. Pekerjaan yang menghasilkan barang adalah pekerjaan yang menghasilkan sesuatu barang yang bisa digunakan oleh orang lain. Sedangkan pekerjaan yang menghasilkan jasa adalah suatu pekerjaan yang pelayanannya bisa dinikmati oleh orang lain.*

Berdasarkan teks di atas, pekerjaan yang menghasilkan barang adalah ... .

- Dokter
  - Nelayan
  - Polisi
  - Guru
5. Perhatikan gambar di bawah ini!



(1)



(2)



(3)



(4)

Yang merupakan gambar tiga dimensi di tunjukkan pada nomor ... .

- 1
- 2
- 3
- 4

**II. PILIHAN GANDA KOMPLEKS**

6. Perhatikan makna sila pertama Pancasila berikut!
- Percaya adanya Tuhan sehingga setiap warga Negara rela untuk diatur.
  - Setiap orang di bebaskan memeluk agama masing – masing maka setiap orang bertanggung jawab untuk taat dengan agamanya.
  - Semua yang Tuhan berikan kepada kita harus di jaga.
  - Toleransi antar umat beragama.



Berilah tanda centang (✓) pada kolom benar atau salah terhadap pernyataan di bawah ini!

No.	Pernyataan	Benar	Salah
1.	Setiap orang di bebaskan memeluk agama masing-masing.		
2.	Semua diberikan oleh Tuhan kepada kita harus di jaga.		
3.	Mengajak teman untuk mengikuti agama yang kita anut.		
4.	Toleransi antar umat beragama harus tetap dijaga.		

Untuk soal No. 7 – 10

Beri tanda centang (✓) pada kolom di depan pernyataan atau jawaban yang benar, boleh memilih lebih dari satu jawaban yang dianggap benar!

7. Bacalah teks di bawah ini!

#### *Semut dan Belalang*

*Di tengah hutan hiduplah seekor semut yang amat rajin setiap hari semut itu selalu bekerja mengumpulkan makanan dan menyimpannya di dalam lumbung. Pada suatu ketika sang semut bertemu dengan seekor belalang yang sedang asyik berjemur sambil bermalas-malasan lalu sang belalang berkata pada sang semut, wahai sang semut, mengapa kamu sibuk mengumpulkan makanan sedang musim dingin masih lama, lebih baik bermalas-malasan dulu*

*Akhirnya musim dingin tiba sang semut yang rajin itu duduk dengan nyaman di dalam rumahnya dan menikmati makanan yang berlimpah, sedang belalang termenung sedih di rumahnya karna tidak memiliki makanan sedikitpun saat belalang hampir mati kelaparan sang semut datang dan memberinya makanan, sejak itu sang belalang rajin bekerja*

Sikap/karakter yang di miliki oleh semut dalam cerita dongeng diatas adalah... .

- ☐ malas dan sombong
- ☐ selalu bekerja keras dan tidak mengenal lelah
- ☐ suka menolong
- ☐ tidak suka membantu

8. Bacalah teks berikut ini!

*Tumbuhan sangat besar manfaat dan perannya dalam kehidupan kita. Kehidupan yang nyaman tercipta dengan adanya berbagai tumbuhan penjaga di lingkungan sekitar kita. Selain bermanfaat untuk manusia, tumbuhan juga bermanfaat bagi kehidupan binatang, salah satu contohnya adalah tanaman bakau.*

Di bawah ini yang termasuk manfaat tanaman bakau adalah ... .

- ☐ melindungi pantai dari erosi dan abrasi
- ☐ menahan rembesan air laut ke darat
- ☐ sebagai perangkap zat-zat pencemar dan limbah industri
- ☐ untuk kayu bakar dan makanan binatang

9. Bacalah teks di bawah ini!

*Seorang pengrajin cendera mata, barang yang di ciptakannya sangat unik, karna dibuat dari barang-barang bekas . Memanfaatkan barang-barang bekas menjadi suatu yang bernilai merupakan pekerjaan yang sangat mulia, disamping dapat mendatangkan uang juga dapat menjaga lingkungan dari pencemaran yang berdampak buruk bagi kehidupan.*

Membuat cendera mata adalah suatu jenis kegiatan ekonomi yang merupakan pekerjaan yang menghasilkan ... .

- ☐ barang
- ☐ jasa
- ☐ barang dan jasa
- ☐ uang

10. Perhatikan teks di bawah ini!

*Gambar tiga dimensi adalah karya seni rupa yang bisa dilihat tidak hanya dari panjang dan lebarnya saja, tapi juga ketinggian dan kedalamannya. Seni rupa jenis ini memiliki volume dan kedalaman yang biasa disebut sebagai bangun ruang.*

Berdasarkan teks diatas, yang merupakan gambar tiga dimensi adalah ... .



### III. MENJODOHKAN

11. Bacalah teks berikut!

*Pancasila merupakan dasar Negara kita yang mempunyai 5 sila dan setiap sila mempunyai simbol dan makna yang berbeda. Setiap manusia mempunyai hak dan kewajiban yang setara untuk menikmati dan mengamalkan makna kelima sila tersebut.*

Berdasarkan teks di atas, hubungkanlah dengan garis keterangan di lajur sebelah kiri dengan pernyataan di lajur sebelah kanan!

- |              |                       |   |
|--------------|-----------------------|---|
| Sila pertama | <input type="radio"/> | <input type="radio"/> Setiap manusia setara dan seajar            |
|              |                       | <input type="radio"/> Toleransi antar umat beragama               |
| Sila kedua   | <input type="radio"/> | <input type="radio"/> Tidak mementingkan kepentingan diri sendiri |

12. Bacalah penggalan dongeng berikut!

*Rama, harimau memiliki seekor putra yang bernama si Loreng. Tidak seperti Rama, harimau yang di kenal sangat bijaksana dan juga di kagumi hewan-hewan di hutan, si Loreng, selain sangat jahil dia juga sombong. Si Loreng sering menindas binatang yang ada di hutan. Suatu hari si Loreng menemukan sarang semut merah segera sarang itu di tutup menggunakan batu.*

Berdasarkan penggalan dongeng diatas, hubungkanlah dengan garis pernyataan di lajur sebelah kiri dengan keterangan di lajur sebelah kanan!

- |            |                       |                                    |
|------------|-----------------------|------------------------------------|
| Antagonis  | <input type="radio"/> | <input type="radio"/> Semut merah  |
|            |                       | <input type="radio"/> Si loreng    |
| Protagonis | <input type="radio"/> | <input type="radio"/> Rama harimau |

13. Bacalah teks di bawah ini!

*Kenampakan alam adalah segala sesuatu yang ada di atas permukaan bumi , baik di daratan maupun perairan yang dapat di lihat secara alami. Kenampakan alam bisa terbentuk karna adanya peristiwa-peristiwa yang terjadi di atas permukaan bumi dari waktu ke waktu.*

Berdasarkan teks di atas, hubungkanlah dengan garis keterangan di lajur sebelah kiri dengan pernyataan di lajur sebelah kanan!

- |  |                       |  |
|--|-----------------------|--|
| Kegiatan melestarikan sumber daya alam         | <input type="radio"/> | <input type="radio"/> Menanam pohon        |
|  |                       | <input type="radio"/> Menebang secara liar |
| Kegiatan yang menyebabkan kerusakan lingkungan | <input type="radio"/> | <input type="radio"/> Pembakaran lahan     |
|  |                       | <input type="radio"/> Reboisasi            |





14. Bacalah teks berikut!

*Penduduk Indonesia pada umumnya adalah penikmat teh. Oleh sebab itu, kita perlu mengetahui proses pengolahan teh. Untuk mengolah teh menjadi minuman, banyak jenis pekerjaan yang terlibat. Ada penanam teh, pemetik teh, penggiling daun teh, dan pengemas teh.*



**TEMA 4 (BERBAGAI PEKERJAAN)**

Pasangkanlah masing-masing gambar ( pernyataan ) proses pengolahan teh menjadi minuman pada kolom bagian A dengan jawaban yang tepat pada kolom B!

Kolom A ( Pernyataan )	Kolom B ( Jawaban )
1.  <input type="radio"/>	A. Pengolahan daun teh
2.  <input type="radio"/>	B. Perkebunan teh
3.  <input type="radio"/>	C. Pengemasan teh
4.  <input type="radio"/>	D. Memetik daun teh
	E. Minum teh

15. Bacalah teks berikut!

*Menggambar bangunan di sekitar kita adalah merupakan salah satu contoh menggambar tiga dimensi. Ada banyak bangunan yang dapat kita temui. Setiap bangunan memiliki bentuk, warna, dan fungsi yang berbeda. Setiap bangunan juga memiliki ciri khas yang menarik untuk di jadikan obyek gambar*

Berdasarkan teks di atas, hubungkanlah dengan garis pernyataan di lajur sebelah kiri dengan keterangan di lajur sebelah kanan!

Langkah pembuatan tiga dimensi membuat pola di atas kertas

Langkah pembuatan gambar batik

● Membuat garis horizontal atau garis lurus

● Memindahkan pola dari kertas ke kain

● Membuat kotak lalu membagi menjadi dua

#### IV. ISIAN

16. Bacalah teks berikut!

*Memeluk agama harus taat pada aturan agamanya. Setiap agama mengajarkan pemeluknya untuk jujur, sikap tidak jujur akan membawa dampak bagi diri kita dan orang lain.*

Bersikap jujur dalam kehidupan sehari – hari adalah termasuk makna dari sila... Pancasila

17. Bacalah penggalan cerita berikut!

*Diana tidak kuasa menahan tangisnya ketika menuturkan kondisi keluarganya. Diana sengaja keluar dari sekolah ia tidak memiliki biaya untuk sekolah, ia harus mengurus dirinya dan sang ibu. Keinginan Diana sebenarnya tidak berlebihan, pengamen kecil ini biasa mangkal di perepatan jalan itu hanya ingin sekolah.*

Tema dari cerita diatas adalah ... .

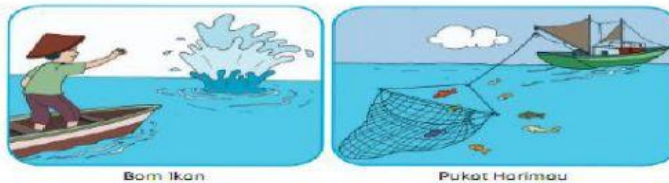
18. Bacalah teks berikut!

*Seiring perkembangan jaman, saat ini di buat pensil yang merupakan campuran dari grafit dan tanah liat. Proses pencampuran ini di balut oleh media kertas atau kayu. Cara membuat pensil saat ini adalah dengan menghancurkan grafit dan tanah liat menjadi bentuk bubuk kemudian di bakar selama kurang lebih tiga hari setelah itu pensil itu di bentuk panjang dan tipis serta dibungkus kayu.*

Sumber daya alam yang di gunakan dalam pembuatan pensil adalah ... .

## V. ESSAI

19. Perhatikan gambar dan teks di bawah ini!



*Sekarang ini banyak yang menangkap ikan dengan pukat harimau dan bahan peledak. Pukat harimau adalah jaring sangat besar yang dapat menjaring semua makhluk hidup laut. Bom ikan adalah bahan peledak untuk menangkap ikan.*

Jelaskanlah akibat buruk yang akan terjadi jika pengambilan ikan dengan menggunakan bom dan pukat harimau !

20. Bacalah teks berikut ini!

*Simbol sila kedua Pancasila adalah rantai, mata rantai berbentuk segi empat melambangkan laki-laki. Mata rantai berbentuk lingkaran melambangkan perempuan. Mata rantai yang saling berkaitan melambangkan hubungan manusia yang perlu bersatu dan saling membantu sehingga menjadi kuat seperti rantai.*

Jelaskan hubungan antara simbol dengan makna sila kedua pancasila!

\*\*\* SELAMAT BEKERJA\*\*\*