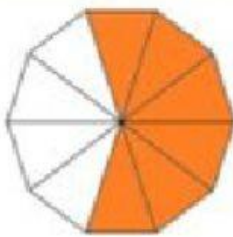
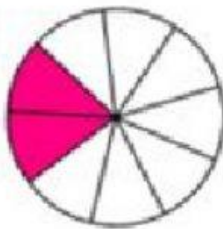


Escribe con  
Inombre de la  
fracción  
coloreada



\_\_\_\_\_

Selecciona de  
la lista la  
respuesta  
correcta a la  
siguiente  
figura



\_\_\_\_\_

Selecciona la  
respuesta  
que indica la  
fracción  
pintada en la  
figura




Un medio

Dos medios

Un entero

Une la figura con la  
respuesta que  
representa la parte  
coloreada de la figura



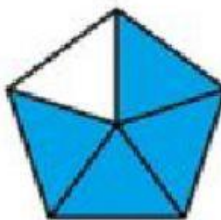
$\frac{3}{4}$

$\frac{1}{4}$

Un cuarto

Tres cuartos

Arrastra a la  
línea la  
respuesta que  
representa la  
parte pintada de  
la figura



$\frac{4}{5}$      $\frac{5}{5}$      $\frac{1}{5}$

\_\_\_\_\_