

OBSERVE OS PREÇOS DOS PRODUTOS VENDIDOS EM UMA LANCHONETE DE UM ESTÁDIO DE FUTEBOL.

# CARDÁPIO



HAMBÚRGUER.....R\$ 16,50



PIPOCA.....R\$ 8,00



REFRIGERANTE.....R\$ 9,25



SUCO.....R\$ 6,00






CHOCOLATE.....R\$ 4,25



1- SELECIONE AS CÉDULAS E MOEDAS QUE CORRESPONDEM AO VALOR DA PIPOCA.



2- CALCULE QUANTOS REAIS A LORENA GASTOU COMPRANDO OS INTENS ABAIXO.

 R\$   
 + R\$   
 R\$   


---

R\$

3- PARA PAGAR A CONTA A LORENA UTILIZOU AS CÉDULAS ABAIXO.



QUAL FOI O TROCO QUE ELA RECEBEU?

R\$

R\$

R\$

4- SELECIONE AS CÉDULAS E MOEDAS QUE REPRESENTAM O TROCO QUE A LORENA RECEBEU.



5- CALCULE QUANTOS REAIS O JOÃO GASTOU COMPRANDO OS ITENS ABAIXO.

R\$

R\$

R\$

---

R\$

6- JOÃO PAGOU A SUA COMPRA COM UMA NOTA DE R\$20,00. ELE RECEBEU TROCO?

SIM

NÃO

7- SELECIONE AS CÉDULAS E MOEDAS QUE REPRESENTAM O TROCO QUE ELE RECEBEU.

