

Nome:

Reta numérica

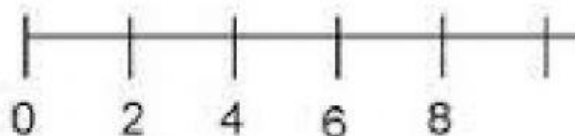
Exercícios



1 - Marque a alternativa correta sobre reta numérica.

- ☐ a) É uma linha na horizontal onde são colocados os números;
- ☐ b) A marcação dos traços é sempre em ordem numérica e não obedecem a um determinado intervalo;
- ☐ c) Não é utilizada para marcar intervalos de tempo;
- ☐ d) A marcação dos traços é sempre em ordem numérica e obedecem a um determinado intervalo de tempo.

2 - Preencha o espaço em branco desvendando a seguinte situação: qual é o intervalo dado de um número a outro na reta abaixo (número + intervalo) ?



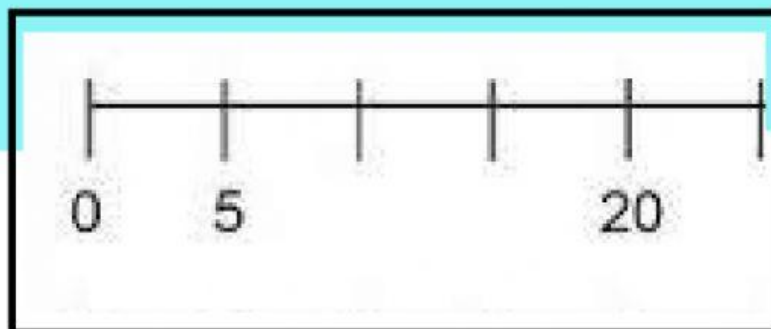
R-



3 - Ligue as retas aos intervalos de um número ao outro.



a)

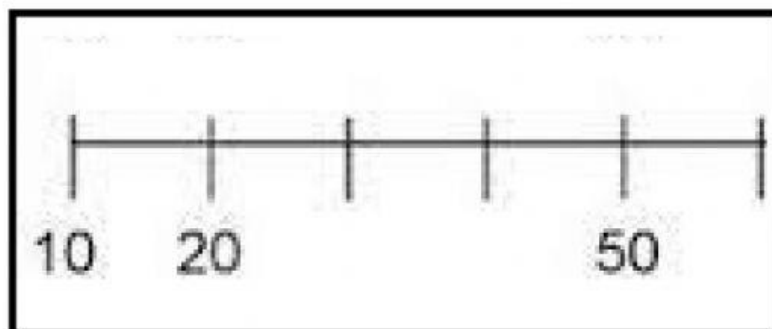


5

8

10

b)



5

8

10