

ĐỀ KHẢO SÁT

Họ và tên:

Lớp 1

1. Tính

$5 + 3 = \dots\dots$

$2 + 3 + 5 = \dots\dots$

$8 - 6 = \dots\dots$

$10 - 4 - 2 = \dots\dots$

2. Số?

$2 + \dots\dots = 5$

$4 - \dots\dots = 0$

$\dots\dots + 0 = 9$

$\dots\dots - 0 = 6$

3. >, <, =?

$2 + 3 \dots\dots 7$

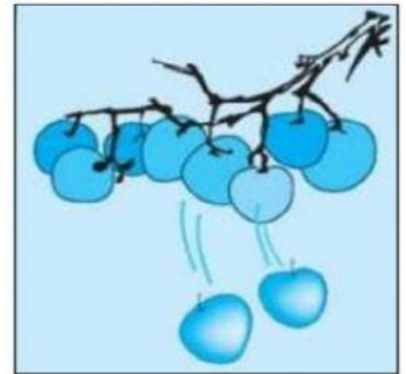
$1 + 7 \dots\dots 9 - 3$

$9 \dots\dots 10 - 1$

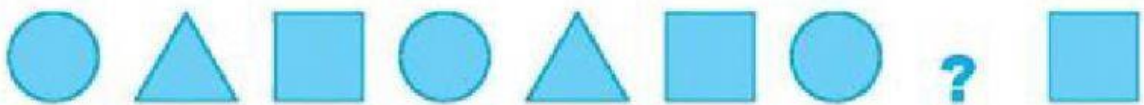
$8 - 6 \dots\dots 8 - 5$

4. Viết phép tính thích hợp phù hợp với hình vẽ

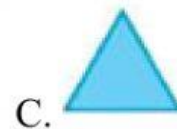


□ □ □ □ □



5. Đúng ghi Đ, sai ghi S



Hình thích hợp đặt vào dấu ? là ?



Bài 1: c hay k?

.....ì cọ

.....on mèo

.....ô giáo

.....éo co

Bài 2: Điền ng hay ngh?

.....ỉ ngơi

.....ã ba

.....õ nhỏ

.....é ọ

Bài 3: Điền ap, ăp, ôp?



b..... ngô



h..... cơm



xe đ.....

Bài 4: Chọn từ điền vào chỗ trống

chín đở

học bài

mái tóc

a, Quả gấc

b, dài và đen

Bài 5: Nối

Chú Nai

nấu ăn ngon.

Gạo lứt

có dĩa chua.

Bữa ăn

chạy nhảy.

