

Evaluación de ingreso – Matemáticas

3° GRADO

Prof. Susi Santé

Nombres y Apellidos: _____ Fecha: _____

COMPETENCIA: RESUELVE PROBLEMAS DE CANTIDAD

NIVEL DE LOGRO:

1. Ordena:

• De menor a mayor

21	65	19	80
----	----	----	----

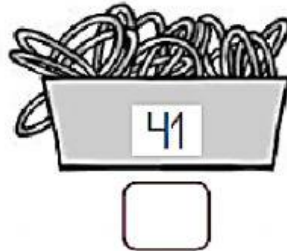
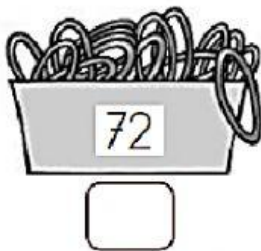
< < <

• De mayor a menor

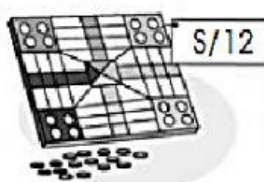
46	95	30	58
----	----	----	----

> > >

2. Aproxima cada número a la decena más cercana.



3. Responde:



- ¿Qué juguete cuesta, aproximadamente, S/ 30? _____
- ¿Qué juguete cuesta, aproximadamente, S/ 10? _____
- ¿Cuál es el costo aproximado del carrito y el oso juntos? _____

4. Lee y resuelve el siguiente problema:

6 Lee y resuelve.

- Carla acomoda 25 cajas de manzanas y 10 cajas de naranjas más que de manzanas. ¿Cuántas cajas de naranjas acomoda Carla?

Respuesta:



5. Lee y resuelve el siguiente problema:

- Mayra tiene 90 soles. Si compra una casaca de 78 soles, ¿cuánto dinero le queda?

Respuesta:



6. Coloca el número que corresponde siguiendo la secuencia.

3	6	9					
5	10	15	20				
16	14	12	10				

7. Resuelve:

- $16 - 9 =$
- $5 + 6 =$
- $17 + 8 =$
- $21 - 4 =$

¡Tú puedes!