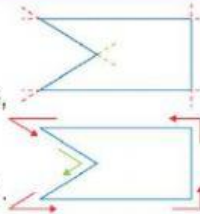
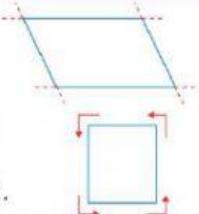
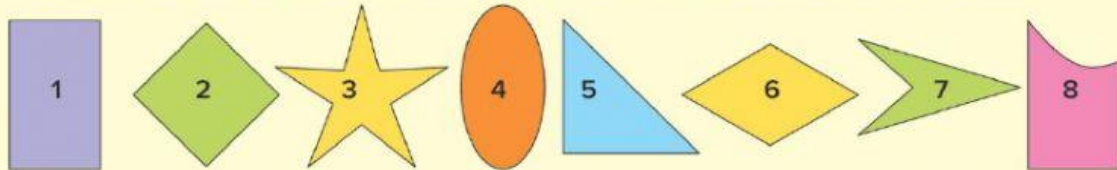


I POLIGONI 2

I poligoni possono essere di due tipi. Osserva gli esempi.

concavi	convessi
<p>Almeno due prolungamenti dei lati entrano nella figura.</p> <p>Se percorro i segmenti di confine, i cambi di direzione non sono sempre nello stesso senso (a volte a destra e a volte a sinistra).</p> 	<p>I prolungamenti dei lati non entrano nella figura.</p> <p>Se percorro i lati, cambio direzione sempre nello stesso senso, per esempio nel senso antiorario (verso sinistra).</p> 

Completa scrivendo il numero delle figure che hanno le caratteristiche indicate.



non sono poligoni:

sono poligoni concavi:

sono poligoni convessi:

Scrivi come si dicono i poligoni che hanno le caratteristiche indicate.

		
lati della stessa lunghezza:	angoli della stessa ampiezza:	lati e angoli uguali: