

Langkah Pengerjaan:

1. Isilah Nama, No. Absen, dan Kelas.
2. Kerjakan soal sesuai perintahnya.
 - Untuk pilihan ganda, klik pada lingkaran huruf di depan jawaban yang benar.
 - Untuk Isian dan Uraian, ketik jawaban di kotak yang disediakan.
3. Setelah semua soal selesai kamu jawab, **Save** jawabanmu.
4. Kirimkan kepada gurumu melalui WhatsApp atau email.

Nama	<input type="text"/>
No. Absen	<input type="text"/>
Kelas	<input type="text"/>

**Uji Kompetensi**



Setiap Soal
Bernilai 2 poin.

A. Pilihlah jawaban yang benar!

1.  + 

Hasil penjumlahan di atas adalah

- (a.) 4 wortel
 - (b.) 5 wortel
 - (c.) 6 wortel
2. Hasil dari $4 + 2 = \dots$
- (a.) 6
 - (b.) 7
 - (c.) 8
3. Hasil dari $6 + 1 = \dots$
- (a.) 7
 - (b.) 8
 - (c.) 9

4.  +  =

- (a.) 5
- (b.) 6
- (c.) 7




5. Hasil dari $10 + 0$ adalah

- (a.) 0
- (b.) 1
- (c.) 10

6. $3 + \dots = 9$

Bilangan untuk mengisi titik titik di atas adalah

- (a.) 6
- (b.) 7
- (c.) 8

7.  +  = 

Banyak kelereng pada kotak kosong adalah **HOTS**

- (a.) 3
- (b.) 4
- (c.) 5

8. Ada 7 ekor ayam.
Datang 3 ekor ayam bergabung.
Banyak ayam semuanya ada
- (a.) 10 ekor
(b.) 9 ekor
(c.) 8 ekor
9. Anis punya 5 pita.
Ibu memberi Anis 5 pita.
Banyak pita Anis sekarang ada
- (a.) 8
(b.) 9
(c.) 10
10. Kakek memiliki 6 ekor bebek.
Kakek membeli beberapa bebek.
Bebek Kakek sekarang ada 10 ekor.
Kakek membeli bebek sebanyak **HOTS**
- (a.) 3 ekor
(b.) 4 ekor
(c.) 5 ekor

11. 
Hasil penjumlahan di atas adalah
- (a.) 7
(b.) 8
(c.) 9

12. Pasangan bilangan 6 yang hasil penjumlahannya 10 adalah

- a. 5
- b. 4
- c. 0

13. Di rumah Joni ada 5 orang dewasa dan anak-anak.

Banyak orang di rumah Joni ada 8.

Banyak anak-anak adalah **HOTS**

- a. 3
- b. 4
- c. 5

14. $\boxed{3} + \boxed{\dots} = \boxed{6}$

- a. 2
- b. 3
- c. 4



Banyak vas menjadi

- a. 7 buah
- b. 8 buah
- c. 9 buah

16. Ayah memiliki 4 kandang ayam.

Ayah membuat lagi 3 kandang ayam.

Banyak kandang ayam Ayah sekarang ada

(a.) 6

(b.) 7

(c.) 8


17. $9 + \dots = 9$

Bilangan untuk mengisi titik titik di atas adalah

(a.) 0

(b.) 9

(c.) 10

18.  +  =

(a.) 

(b.) 

(c.) 

19. Penjumlahan yang hasilnya 10 adalah

(a.) $3 + 6$

(b.) $5 + 4$

(c.) $4 + 6$

20. Denis punya 4 ekor ikan.

Ayah membelikan Denis seekor ikan.

Banyak ikan Denis sekarang ada ... ekor.

(a.) 7

(b.) 5

(c.) 6