



## FICHA DE SUCESIONES NUMÉRICAS

NOMBRE Y APELLIDO:

1. Aplica la regla de formación y completa las sucesiones numéricas

a) Regla: Dividir entre 8 ( $\div 8$ )



b) Regla: Multiplicar por 2 ( $\times 2$ )



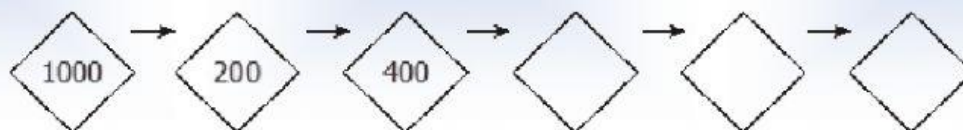
c) Regla: Dividir entre 5 ( $\div 5$ )



d) Regla: Multiplicar por 3 ( $\times 3$ )



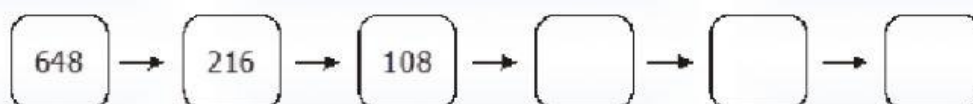
e) Regla:  $\div 5, \times 2$



f) Regla:  $+ 8, \div 2$



g) Regla:  $\div 3, \div 2$



h) Regla:  $- 5, \div 2$



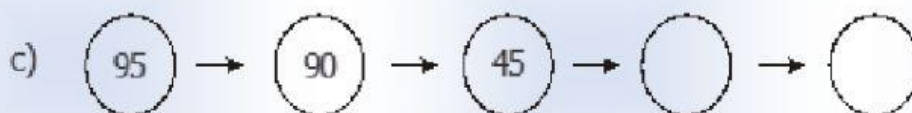
2. Descubre la regla y continúa las sucesiones



Regla: \_\_\_\_\_



Regla: \_\_\_\_\_



Regla: \_\_\_\_\_



Regla: \_\_\_\_\_

