
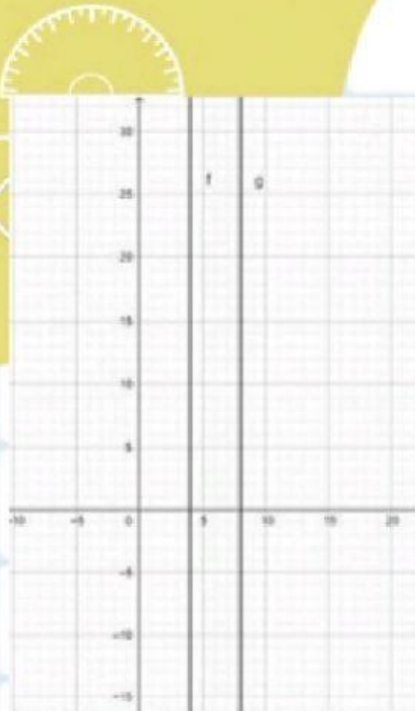


Kedudukan Dua Garis

Coba perhatikan!
Dapatkah kalian
menemukan dua garis
yang berhubungan?



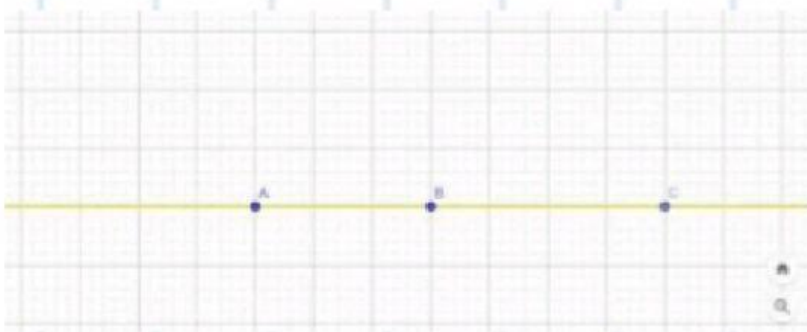
Mari kita menyebutkan kedudukan dua garis dengan memilih jawaban yang tepat



- A. Garis
- B. Segmen
- C. Garis Singgung
- D. Garis sejajar




- A. Ruas Garis
- B. Garis Sejajar
- C. Garis Berlawanan
- D. Garis Berpotongan



- A. Garis Singgung
- B. Garis Berpotongan
- C. Garis Berhimpitan
- D. Garis Searah

Sudut


Masih ingatkah
sinar garis?



Tentu kita sering melihat benda-benda seperti gambar di atas dalam kehidupan sehari-hari. Ternyata pada saat jarum menit menunjukan angka 12 dan jarum jam menunjukan angka 3, kedua jarum itu membentuk sebuah sudut

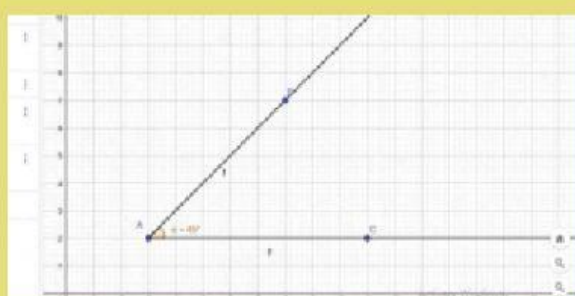


Sebutkanlah jenis dan ukuran sudut yang tepat



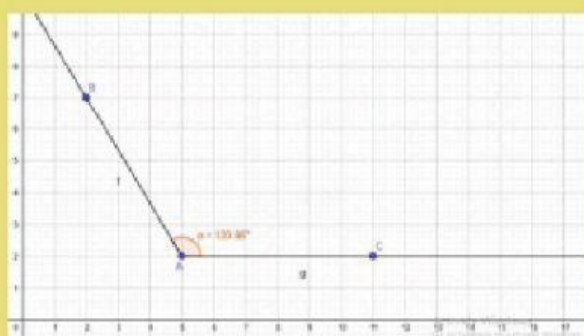

Jenis sudut:

Ukuran Sudut:



Jenis sudut:

Ukuran Sudut:



Jenis sudut:

Ukuran Sudut:

