

Une con flechas según corresponda:

Paso de sólido a líquido

Paso de líquido a gas

Paso de gas a líquido

Paso de líquido a sólido

Paso de sólido a gas

Paso de gas a sólido

Vaporización

Fusión

Solidificación

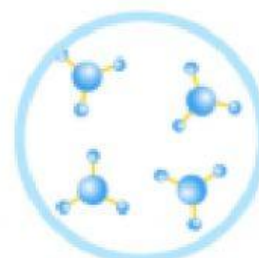
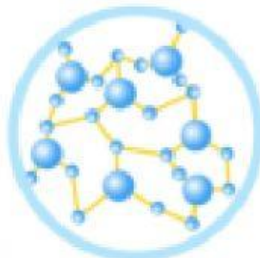
Sublimación inversa

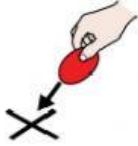
Condensación

Sublimación



Escribe cuales son los tres estados de agregación en los que podemos encontrar el agua:





COLOCA DONDE CORRESPONDA:

- CASQUETES    ➤ LLUVIA
- POLARES
- OCÉANOS    ➤ MARES    ➤ VAPOR DE AGUA

GASEOSO	LÍQUIDO	SÓLIDO
<input type="text"/>	<input type="text"/>	<input type="text"/>



Completa las frases:

El punto de congelación del agua es

El punto de ebullición del agua es

El agua se encuentra en estado líquido a



COLOCA DONDE CORRESPONDA

Sublimación Vaporización Fusión Sublimación inversa  
Solidificación Condensación

