


LEMBAR KEGIATAN PESERTA DIDIK ELEKTRONIK (E-LKPD) SEJARAH INDONESIA

Pendudukan Jepang di Indonesia



XI

SMA/SMK/MA

*Kedatangan Jepang
ke Indonesia*

NAMA :

KELAS :

KOMPETENSI DASAR

3.5 Menganalisis sifat pendudukan Jepang dan respon bangsa Indonesia.

INDIKATOR PENCAPAIAN

3.5.1 Mampu menganalisis latar belakang kedatangan Jepang ke Indonesia

3.5.2 Mampu menjelaskan proses kedatangan bangsa Jepang ke Indonesia



TUJUAN PEMBELAJARAN

Dengan menggunakan model pembelajaran Blended Learning peserta didik mampu menganalisis latar belakang kedatangan Jepang ke Indonesia dan menjelaskan jalur masuknya





PETUNJUK BELAJAR

1. Isilah identitas pada kolom yang telah disediakan
2. Bacalah langkah kegiatan dengan teliti
3. Tanyakan pada guru jika ada hal yang kurang jelas!



LANGKAH-LANGKAH KEGIATAN


1. Silahkan ananda tonton video berikut ini!



<https://www.youtube.com/watch?v=VchUQDGH40E>



Klik link di samping apabila video tidak bisa di buka



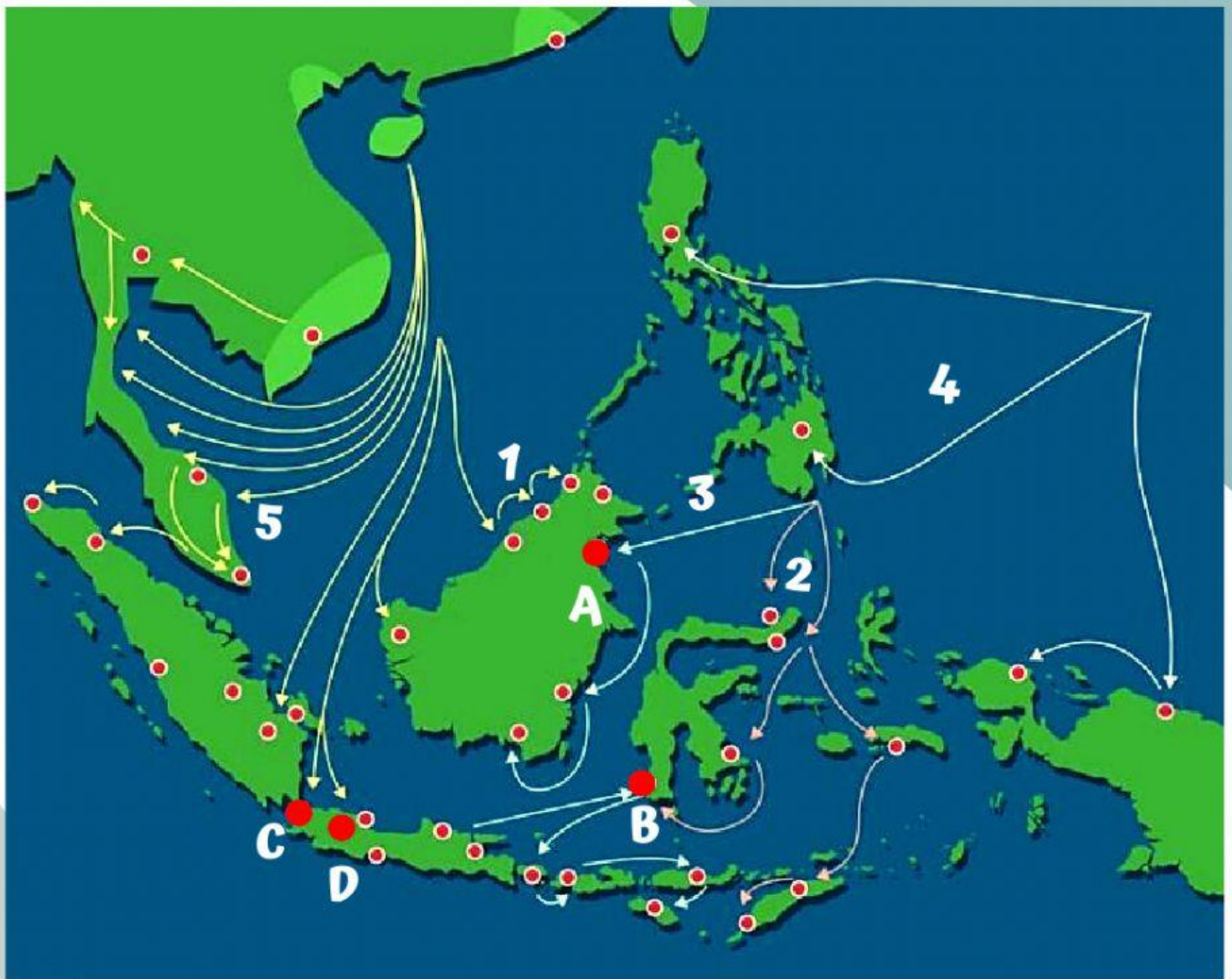
2. Setelah menonton video di atas, tuliskan dikolom berikut terkait apa yang kamu ketahui tentang kedatangan Jepang



**MATERI KEDATANGAN
JEPANG**



3. Selanjutnya, ananda amati peta berikut ini!



Berdasarkan peta di atas, tentukan nomor mana saja jalur masuk Jepang ke Indonesia

Jalur Barat ditunjukkan pada nomor :

Jalur Tengah ditunjukkan pada nomor :

Jalur Timur ditunjukkan pada nomor :

**Untuk jawabannya, ditulis dengan angka ya! Contoh :
Jalur Barat ditunjukkan pada nomor : 5**



4. Selanjutnya berdasarkan peta di atas, tentukan tempat pertama kali Jepang mendarat di Indonesia berdasarkan jalur masuknya

Wilayah ini merupakan pusat militer AL Jepang

Wilayah ini merupakan Hindia Belanda menyerah tanpa syarat dengan sebuah perjanjian

Wilayah ini merupakan pusat Hindia Belanda yang berhasil direbut Jepang

Wilayah ini merupakan tempat pertama kali Jepang mendarat di Indonesia

Taratakan (A)

Makkasar (B)

Batavia (C)

Kalijati (D)



Tahukah kamu!



Munculnya keinginan Jepang ingin menguasai Asia Tenggara, akibat pergantian kekuasaan Jepang ke Kaisar bernama Restorasi Meiji Tahun 1941, Jepang menyerang Amerika Serikat di Pearl Harborl dengan tujuan melumpuhkan Angkatan Laut AS, walaupun jangka waktu sementara Hal ini juga memudahkan Jepang dalam waktu singkat menduduki wilayah Asia Tenggara, termasuk Indonesia

5. Yuk, kita lanjut jawab pertanyaan silang berikut ini!

Kebijakan Resto Meiji?

Kaya sumber minyak bumi, namun minim penjagaan Sekutu

Langkah pertama Jepang menguasai SDA di Asia Tenggara

Pembaharuan segala bidang kehidupan

Apa yang terjadi 8 Desember 1941?

Cadangan Logistic dan Bahan Industry

Tujuan kedatangan Jepang ke Indonesia?

Perang Asia Pasifik atau Asia Timur Raya

Alasan Jepang pertama kali mendarat di Kaltim?

Serangan Jepang ke Pearl Harboer AS

6. Jawablah pertanyaan berikut dengan tepat!

Usaha Belanda menghadapi kedatangan Jepang?

Apa yang terjadi 8 Maret 1942

Langkah pertama Jepang setelah berhasil menduduki Indonesia?

