



PEMERINTAH KABUPATEN DONGGALA
DINAS PENDIDIKAN DAN KEBUDAYAAN
SMP NEGERI 2 DAMPELAS

Alamat : Jl. Siswa 2 No 52 Karya Mukti, Kecamatan Dampelas
NPSN : 40200672 E-mail : smpn2.dampelas@yahoo.co.id

LKPD (1) MATEMATIKA

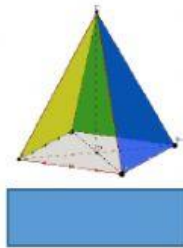
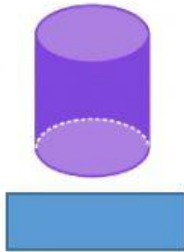
Nama :

Kelas :

No. Absen :

Kerjakan soal berikut ini!

1. Pilihlah nama bangun ruang sesuai dengan gambar yang diberikan!



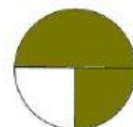
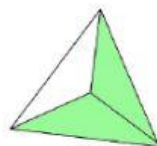


2. Pasangkanlah bilangan yang ada disebelah kiri dengan gambar disebelah kanan yang bersesuaian, dengan cara menarik garis lurus.

$$\frac{2}{3}$$

$$\frac{3}{4}$$

$$1\frac{1}{3}$$

$$\frac{5}{7}$$



3. Sebuah toko membeli 2 lusin buku dengan harga Rp 50.000,00. Jika tiap buku dijualnya kembali dengan harga Rp 3.000,00, maka yang dialami pemilik toko adalah

Jawaban:

Harga jual per Buku =

Harga jual 2 lusin buku = x
=

Karena harga jualdari harga beli, maka pedagang tersebut mengalami
Sebesar:

..... = -
= -
=

Persentase Yang dialami pemilik toko adalah:

Persentase = $\frac{\text{.....}}{\text{.....}} \times 100\%$

= $\frac{\text{.....}}{\text{.....}} \times 100\%$

=%

4. Diantara bilangan-bilangan berikut ini yang merupakan bilangan Prima adalah.....
(Berilah tanda centang pada jawaban yang menurut anda benar)

9	11	7	15	21	17
---	----	---	----	----	----

5. Lengkapi titik-titik berikut dengan cara menarik angka yang ada di sebelah kanan ke dalam kotak di sebelah kiri sehingga menjadi persamaan yang bernilai benar.

12	x	...	=	72
....	:	...	=	14
....	+	16	=	40
....	-	- 5	=	16

70	
	11
24	
	6
5	

