

ULANGAN HARIAN MATEMATIKA - PERSAMAAN DAN FUNGSI KUADRAT  
KODE A

1. Manakah yang benar dari definisi persamaan kuadrat di bawah ini:

- Persamaan kuadrat adalah suatu persamaan yang memiliki variabel dengan pangkat tertingginya lebih dari 1
- Persamaan kuadrat memiliki bentuk umum  $y = ax^2 + bx + c$
- Koefisien  $x^2$  pada persamaan  $12x - 2x^2 = 0$  adalah 2
- Nilai konstanta dari persamaan kuadrat  $16 - x^2 = 0$  adalah 16
- $b$  pada bentuk umum persamaan kuadrat adalah koefisien dari  $x$

2. Analisislah Sifat-sifat akar persamaan kuadrat berikut ini:

No.	Persamaan Kuadrat	Sifat akar Persamaan kuadrat
a.	$x^2 + 5x = 0$	
b.	$5x^2 + x + 3 = 0$	

3. Suatu Persamaan kuadrat  $x^2 + 8x - 9 = 0$  memiliki akar-akar  $x_1$  dan  $x_2$  :  
Tentukan hasil dari rumus jumlah dan hasil kali dari:

- a.  $x_1 + x_2 =$
- b.  $x_1 \cdot x_2 =$
- c.  $x_1^2 + x_2^2 =$

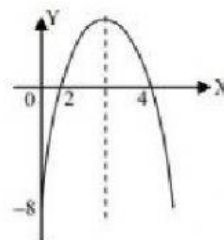
4. Pasangkanlah persamaan kuadrat di bawah ini dengan faktor nya:

No.	Persamaan Kuadrat			Faktor
a.	$x^2 - 5x + 6 = 0$	•		• $(x - 1)(x + 6) = 0$
b.	$x^2 + 5x - 6 = 0$	•		• $(x + 3)(x - 2) = 0$
c.	$x^2 + x - 6 = 0$	•		• $(x - 2)(x - 3) = 0$

5. Perhatikan gambar di bawah ini:

Gambar grafik berikut adalah grafik dari ....

- A.  $y = -x^2 - 4x - 8$
- B.  $y = -x^2 + 6x + 8$
- C.  $y = -x^2 + 6x - 8$
- D.  $y = x^2 - 4x - 8$
- E.  $y = x^2 - 6x + 8$



6. Sebuah persamaan kuadrat  $x^2 + 6x - 2 = 0$  memiliki akar-akar persamaan kuadrat  $x_1$  dan  $x_2$ . Tentukan suatu persamaan kuadrat yang akar-akarnya  $6x_1$  dan  $6x_2$

Diketahui : PK Lama  $\Rightarrow x^2 + 6x - 2 = 0$

Akar-akarnya  $x_1$  dan  $x_2$

Ditanya : PK Baru yang akar-akarnya  $6x_1$  dan  $6x_2$

Jawab:

PK Lama  $\Rightarrow x^2 + 6x - 2 = 0$

- Jumlah :  $x_1 + x_2 = \frac{-b}{a} = \frac{-6}{1} = -6 =$

- Kali :  $x_1 \cdot x_2 = \frac{c}{a} = \frac{-2}{1} = -2 =$

PK Baru  $\Rightarrow x^2 - (\text{jumlah})x + (\text{kali}) = 0$

- Jumlah :  $6x_1 + 6x_2 = 6 \cdot (x_1 + x_2) = 6 \cdot (-6) = -36 =$

- Kali :  $6x_1 \cdot 6x_2 = 36 \cdot (x_1 \cdot x_2) = 36 \cdot (-2) = -72 =$

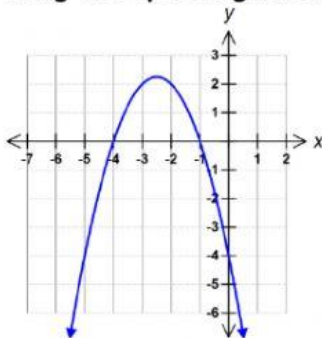
Jadi PK Baru  $\Rightarrow x^2 - (\text{jumlah})x + (\text{kali}) = 0$

$$x^2 - (-36)x + (-72) = 0$$

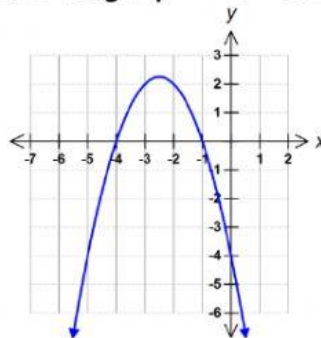
7. Suatu Fungsi kuadrat  $y = x^2 + 8x - 20$ , Berilah tanda yang Benar atau Salah pada pernyataan di bawah ini :

No.	Pernyataan	Benar	Salah
a.	Fungsi kuadrat di atas memotong sumbu x di titik (0, -10) dan (2,0)		
b.	Sumbu simetrinya adalah -4		
c.	Nilai Minimumnya adalah -36		

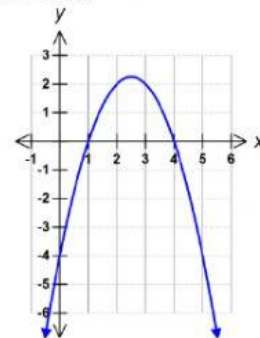
8. Yang merupakan gambar grafik fungsi  $y = -x^2 + 5x - 4$  adalah ...



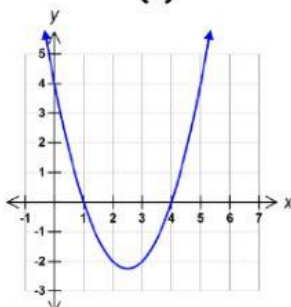
(a)



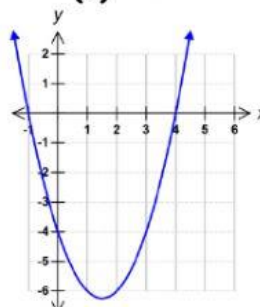
(b)



(c)



(d)



(e)