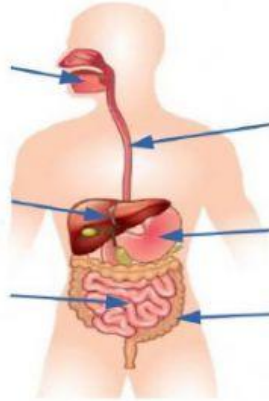
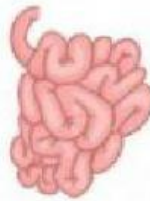
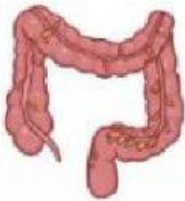


Хоол боловсруулах эрхтэн тогтолцоо

1. Хүний биеийн заасан эрхтнүүдийг зөв нэрлээрэй.



2. Зургийг ажиглаад эрхтнийг нэрлээрэй.



3. Дараах эрхтнүүдээс хоол боловсруулах эрхтэн тогтолцооны туслах булчирхайг сонгоорой.

Улаан хоолой

Бүдүүн гэдэс

Ходоод

Цэс

Нарийн гэдэс

Нойр булчирхай

Элэг

Шүлсний булчирхай

4. Эрхтнүүдийн үүргийг зөв байрлуулаарай.

Улаан хоолой

Бүдүүн гэдэс

Ходоод

Нарийн гэдэс

Шүд

| | |
|--|---|
| | Хоол тэжээлийг жажлах, бутлах үүрэгтэй. |
| | Амны хөндийг ходоодтой холбох үүрэгтэй. |
| | Усыг шимэж, өтгөнийг хэлбэржүүлэх үүрэгтэй. |
| | Мах сүүний уураг задалдаг - Пепсин энзим агуулагддаг. |
| | Арван хоёр нугалаа гэдсэнд цэсний цорго, нойр булчирхайн цорго нээгддэг |

5. Талх зажлахад амны хөндийд ямар боловсруулалт явагдах вэ?

A. Зөвхөн механик боловсруулалт

B. Зөвхөн химийн боловсруулалт

C. Механик ба химийн боловсруулалт

D. Механик ба химийн боловсруулалт аль нь ч явагдахгүй