


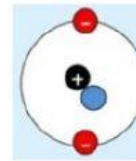
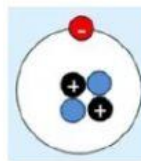
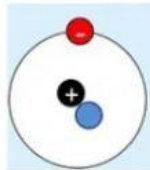
## LKPD (LEMBAR KERJA PESERTA DIDIK) STRUKTUR ATOM

Petunjuk: Simaklah Video berikut kemudian jawablah pertanyaan dibawahnya



### SOAL PILIHAN GANDA

Dibawah ini yang merupakan gambar atom netral adalah ;



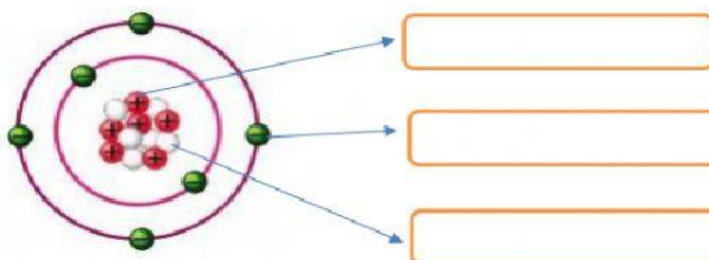
### SOAL ISIAN SINGKAT

1. Elektron adalah partikel yang bermuatan ...
2. Proton adalah partikel yang bermuatan ...

### SOAL DROP DOWN

Berilah keterangan pada bagian atom di bawah ini!

Berikut adalah gambar partikel dasar penyusun atom. Berilah keterangan pada bagian yang ditunjukkan oleh tanda panah!



### SOAL CHECK BOX

Pilihlah jawaban yang benar dengan cara menceklis pada kotak yang tersedia

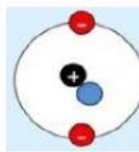
Inti atom terdiri dari

☐ a. Proton

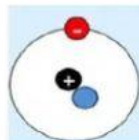
☐ b. Netron

☐ c. Elektron

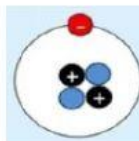
### SOAL JOIN ARROW



NETRAL



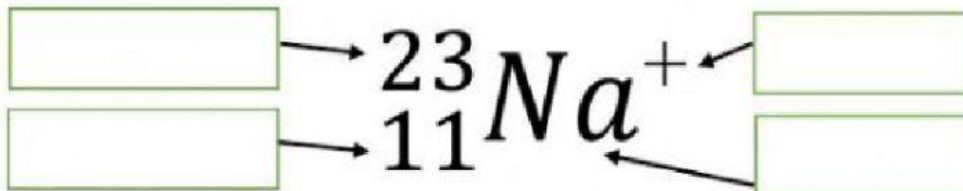
ANION



KATION

### SOAL DRAG AND DROP

Pasangkan jawaban dibawah ini dengan menarik jawaban pada gambar yang tepat !



Simbol unsur

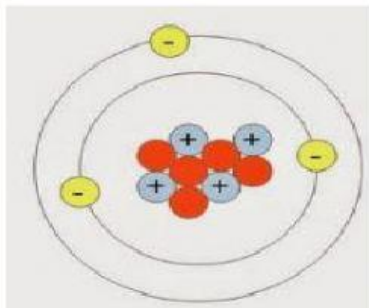
Nomor atom

Nomor massa

Muatan ion

## SOAL SPEAKING

DENGARKAN LALU PILIH JAWABAN YANG BENAR



BENAR

SALAH

## SOAL WORD SEARCH

Carilah 3 kata penyusun atom;

A	B	U	E	U	S	F	O
Q	P	R	L	T	O	P	B
W	O	R	I	S	M	R	A
E	L	E	K	T	R	O	N
T	U	O	V	C	G	T	O
L	I	M	A	S	B	O	K
Y	N	E	T	R	O	N	V