



Hi Students!

QUIZ ALAT UKUR PANJANG

A'YUNATUL MUAFFIFAH,S.PD

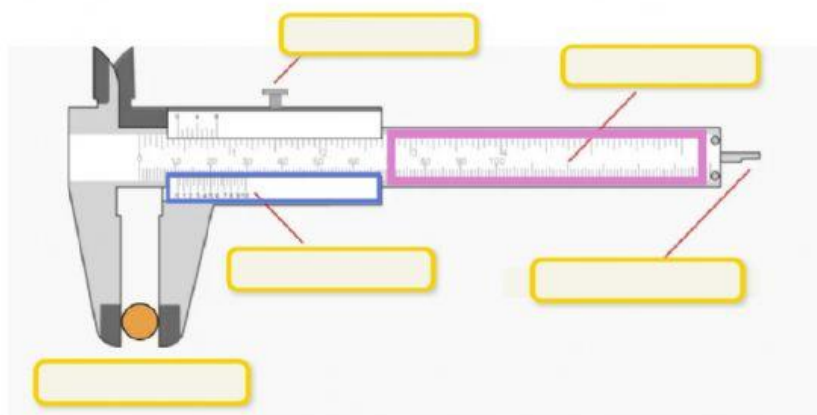
FISIKA | FASE-E

Nama :
Kelas :
No Absen :

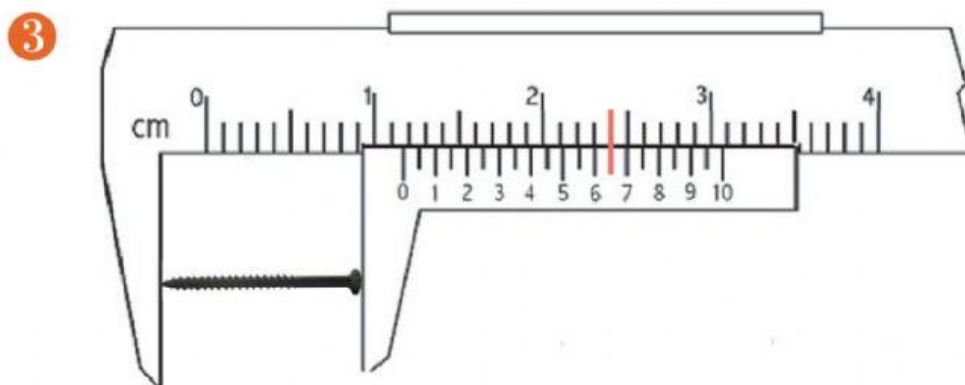




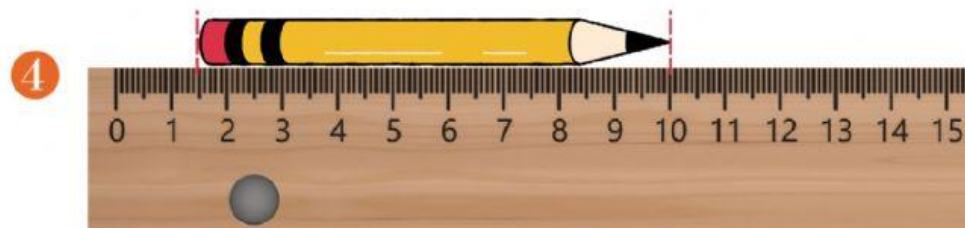
- 1 Perhatikan gambar jangka sorong berikut! Sebutkan nama bagian yang ditunjuk



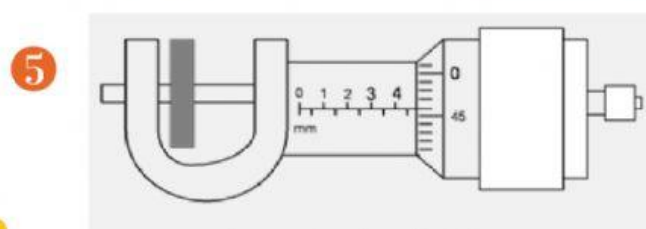
- 2 Septi memiliki pipa silinder kecil berongga. Septi mengukur diameter luar pipa tersebut menggunakan alat ukur sehingga diameter luar terukur sebesar 2,45 cm. Alat yang digunakan Septi adalah



Hasil pengukuran dari jangka sorong tersebut adalah cm



Panjang pensil di atas adalah cm



Tebal sebuah plat besi sesuai dengan hasil pengukuran di samping adalah cm

